

**6.**  
**SINIF**



T.C.  
MİLLÎ EĞİTİM BAKANLIĞI

KİTAPÇIK TÜRÜ

**A**

**ORTAÖĞRETİME GEÇİŞ SİSTEMİ**  
**6. SINIF SEVİYE BELİRLEME SINAVI SORU KİTAPÇIĞI**  
**13 HAZİRAN 2009 Saat: 10.00**

Adayın Adı ve Soyadı :  
Aday Numarası (T.C. Kimlik No) :

**DİKKAT:** 1. Soru kitapçıklarını kontrol ederek, baskı hatası olan kitapçığın değiştirilmesi için salon görevlilerine başvurunuz.  
2. Soru kitapçığının ön ve arka yüzündeki açıklamaları okuyunuz.  
3. Sınavda hesap makinesi, cep telefonu ve çağrı cihazı kullanılması yasaktır. Bu cihazları sınav başlamadan önce salon başkanına teslim ediniz.

**CEVAP KAĞIDI İLE İLGİLİ AÇIKLAMA**

1. Cevap kağıdı üzerine yazacağınız yazı ve yapacağınız işaretlemelerde kurşun kalem dışında kalem kullanmayınız.
2. Cevap kağıdındaki olan bilgilerin size ait olup olmadığını kontrol ediniz. Cevap kağıdı kullanılmayacak durumdaysa veya size ait değilse verilecek yedek cevap kağıdına, kimliğinizle ilgili bilgileri, salon başkanının açıklamalarına göre yazınız.
3. Kitapçık türünü cevap kağıdınızın ilgili bölümüne mutlaka işaretleyiniz.
4. Cevap kağıdında **TÜRKÇE, MATEMATİK, FEN VE TEKNOLOJİ, SOSYAL BİLGİLER** ve **YABANCI DİL (İNGİLİZCE, ALMANCA, FRANSIZCA, İTALYANCA)** testleri için beş ayrı bölüm bulunmaktadır. Cevaplarınızı cevap kağıdındaki ilgili sütunlara aşağıdaki örnekte olduğu gibi yuvarlağı, dışına taşımadan işaretleyiniz.  
Yanlış karalamalarınızı düzeltirken yuvarlağın içini temizce siliniz.

**ÖRNEK KODLAMA:**

(A) (B) (C) (D)

**SORU KİTAPÇIĞI İLE İLGİLİ AÇIKLAMA**

1. Bu soru kitapçığında; **TÜRKÇE** testinde 19, **MATEMATİK** testinde 16, **FEN VE TEKNOLOJİ** testinde 16, **SOSYAL BİLGİLER** testinde 16 ve **YABANCI DİL (İNGİLİZCE, ALMANCA, FRANSIZCA, İTALYANCA)** testinde 13 olmak üzere toplam 80 soru bulunmaktadır. Kitapçığın tümü için verilen cevaplama süresi 90 dakikadır.
2. Her sorunun dört seçeneği vardır. Dört seçenektен sadece bir tanesi doğru cevaptır. Doğru bulduğunuz seçeneği cevap kağıdında o soru için ayrılan yerde bularak işaretleyiniz.
3. Size ayrı bir karalama kağıdı verilmeyecektir. Soru kitapçığının içindeki boş alanları karalama yapmak için kullanabilirsiniz.
4. Cevabını bilmediğiniz sorular üzerinde fazla zaman kaybetmeden diğer sorulara geçiniz. Zamanınız kalırsa bu sorulara daha sonra dönebilirsiniz.
5. Puanlamada her soru grubu için yanlış cevap sayısının üçte biri, doğru cevap sayısından çıkarılarak geçerli cevaplara karşı gelen ham puan tespit edilecektir. Bu nedenle rastgele cevaplama yapmayınız.
6. Sınavın bitiminde cevap kağıdınızı ve soru kitapçığınızı salon sorumlularına teslim etmeyi unutmayınız.

**BAŞLAYINIZ DENİLMEDEN SORU KİTAPÇIĞINIZI AÇMAYINIZ.**

1. Eskiden bu köyde insanları horozlar uyardırırdı. Şimdiyse, serçeler ve diğer kuşlar gibi horozlar da bir köşeye çekilerek sessizce hayatlarını sürdürüyorlar.

Bu paragraftaki altı çizili deyimın anlamı aşağıdakilerden hangisidir?

- A) Kimsenin görmeyeceği bir yere saklanmak  
B) Hiçbir işe karışmadan yaşamak  
C) Bir yere yerleşmek, oturmak  
D) Rahatına bakmak

2.

Şunu bilin ki, hayatımızda en yüce, en güçlü ve faydalı dayanağımız, ana baba evinden kalma hatıralarımızdır. Size sık sık terbiyenizden söz açılır; dediğim gibi, güzel, üstüne titrenilen çocukluğunuzdan kalma bir hatıra, terbiyenin en iyisidir. Böyle hatıralardan dağarcığına çokça toplayarak hayat yoluna çıkan insan, bütün ömrüne güvenle bakabilir. Kalbimizde kalan tek bir iyi hatıranın bile bir gün faydasını görebiliriz.



Hasan, okuduğu bu metnin anahtar kelimelerini “hatıra, terbiye, çocukluk” olarak belirlemiştir. Bu kelimeleri belirlerken Hasan ne düşünmüştür?

- A) Paragrafın anlamına en büyük ipucunu bunlar veriyor.  
B) Günlük hayatta sıkça karşılaştığım kelimeler.  
C) Bunlarla ilgili araştırma yapmam gerekiyor.  
D) Bu kelimelerin birden çok anlamı var.

3. Bir dostum, yaşlı ahbabıyla apartmanın merdivenlerini çıkıyormuş. Yaşlı adam her basamağı çıkışında bir kere durur, dudakları arasından bir şeyler mırıldanmış. Dostum da onun yeni bir basamağı aşmaya girişmesini sabırsızlıkla beklemiş. Yaşlı adam dostuma dönerek: “Benim bu mırıldanışım, sana biraz garip görünüyor değil mi? Hakkın var. Ben her basamağı aştığımda şükrederim. Sen şimdi bunun manasını anlayamazsın. Fakat bir gün gelecek, sen de merdiven basamağını aşmanın şükretmeye değer bir durum olduğunu anlayacaksın!” demiş.

Bu metinde yaşlı adamın şükretmesine neden olan düşünce aşağıdakilerden hangisidir?

- A) Zorluklarına rağmen başarılan işin değeri bilinmelidir.  
B) Yardım eli uzatanlara teşekkür edilmelidir.  
C) Başkalarını anlamak için insan, kendini onların yerine koymalıdır.  
D) Yaşananlardan sonuç çıkarılmalı, ders alınmalıdır.

4. “Bil-” kelimesi, aşağıdakilerden hangisinin eklenmesiyle “öğrenme, araştırma veya gözlem yolu ile elde edilen gerçek” anlamını kazanır?

- A) -ge B) -gi C) -giç D) -gin

5. Aşağıdakilerden hangisi bu resimdeki çocuklardan birini niteleyebilir?



- A) Çocuk B) Bir  
C) Uzun D) Bu

6.



Ali'nin evin dışına çıktığını ifade eden üç kelimelik bir cümlede "ev" kelimesine aşağıdakilerden hangisi eklenir?

- A) -e      B) -de      C) -den      D) -i

7.

## ATLIKARINCA OYUNU

<p><b>A</b> Bunları yapamayan ve şaşırان çocuklar, atlıkarıncadan çıkarılırlar.</p>	<p><b>Ç</b> Çamaşır ipi, iki ucu birbirine bağlanarak halka hâline getirilir.</p>
<p><b>I</b> Oyuncular bu ipi sağ veya sol elleriyle tutup halkayı bozmadan koşarlar.</p>	<p><b>K</b> Belli bir süre içinde yanılmayan çocuklar ise oyunu kazanmış sayılırlar.</p>
<p><b>R</b> Oyunun yöneticisi "El değiştir." deyince oyuncular ipi diğer elleriyle tutup bu sefer de ters yöne koşmaya başlarlar.</p>	

"A, Ç, I, K, R" harfleriyle ifade edilen her kutu, atlıkarınca oyununun bir aşamasını içermektedir. Atlıkarınca oyununun aşamaları doğru sıralandığında aşağıdaki kelimelerden hangisi oluşur?

- A) ÇIRAK      B) ÇIKAR  
C) ÇAKIR      D) ÇARIK

8.

Ağır kış koşullarının yaşandığı Van'ın Gevaş ilçesinde, yiyecek bulamadığı için ilçe merkezine gelen ve bir çöplükte bitkin hâlde bulunan akbaba, vatandaşlarca Yüzüncü Yıl Üniversitesi



Veteriner Fakültesi Hayvan Hastanesine getirildi. 15 gün boyunca tedavi edilen akbaba, yaşam alanı olan dağlık bölgeye bırakıldı.

Stanford Üniversitesinden bir Türk araştırmacı, 17 Mayıs 2007'de Iğdır'ın Tuzluca ilçesi Yukarı Çıyırıklı köyünde 18,4 gram ağırlığında bir dişi kır kırlangıcı yakalamış ve bu kuşun ayağına JB 03056 numaralı halkayı takmıştır. Bu kırkırlangıç daha sonra da Zambiya'nın Kabwe şehrinde Hollandalı kuş araştırmacıları tarafından yakalanmıştır. Hollandalı araştırmacılar, kırkırlangıcın 5 bin 600 kilometre yol katederek Zambiya'ya ulaştığını bildirmişlerdir.



Bu iki metnin ortak yönü aşağıdakilerden hangisidir?

- A) Bilimsel bir araştırmayı konu edinmeleri  
B) Sağlığını kaybetmiş bir kuştan söz etmeleri  
C) Doğal çevrenin hayvanlar üzerindeki etkisini anlatmaları  
D) Bir olayı haber vermek için yazılmış olmaları

9.



Bu levhada, anlatımı güçlendirmek için aşağıdakilerden hangisi kullanılmıştır?

- A) Benzetme      B) Kişileştirme  
C) Konuşurma      D) Abartma

10. Bir akşam, aldığı geri vermeyen bir arkadaşı, Nasrettin Hoca'ya "Senden bir dileğim var." demiş. Hoca, adamın gene para isteyeceğini anlayarak "Dilekler karşılıklı, önce benim bir dileğim var, sen onu yerine getir, sonra kendi dileğini söyle." demiş. Arkadaşı "Tamam." deyince Hoca söylemiş dileğini: "Gözünü seveyim, benden borç para isteme!"

Bu metinde aşağıdaki öğelerden hangisi yoktur?

- A) Olay  
B) Yer  
C) Zaman  
D) Şahıs

11. ☆, △, ○ kutularının içerisindeki metinler tek bir yazının giriş, gelişme ve sonuç bölümleridir.

☆ Gün gelip de gittiğimde o tanınmış yerlere, belleğimde biriken ve önceden gezmiş olduğum bütün yerler yansır taşın yüzüne, suyun sesine.

△ Karla kaplı Safranbolu'nun sokaklarında, bu yüzden Antakya'yı görürüm sanki; karşıdaki küçük tepe de "Mazı Dağı" diye haykırır ve yankısı çığ olur, iner yüreğimin üstüne.

○ Herkes tarafından bilinen coğrafyalardan uzak dururum ve hep sonraya bırakırım buraları görmeyi. Çok tanınmayan, gönül verilmeyen başka ufuklara yelken açmaktır çünkü asıl derdim.

Aşağıdakilerin hangisinde kutuları ifade eden semboller "giriş, gelişme, sonuç" şeklinde sıralanmıştır?

- A) △, ☆, ○  
B) ☆, ○, △  
C) ○, ☆, △  
D) △, ○, ☆

12. "Ağır" sözcüğü aşağıdaki cümlelerin hangisinde "hafif" sözcüğünün karşıt anlamlısı olarak kullanılmıştır?

- A) Adam ağır adımlarla gelip masanın başına geçti.  
B) Denizcilik tarihinin en ağır sorumluluklarından birini üzerine alıyordu.  
C) Kızıştım, ona söyleyecek ağır bir söz arıyordum.  
D) Gecenin bir yarısı, kapının ağır tokmağı telaşla vuruldu.

13. Sevgili Kardeşim,

...

(1) Bu satırları sadece bir anı, içten gelme bir mektup olarak yazmak isterdim.  
(2) Zarfın içine kısa bir tiyatro metni eklememi başla. (3) Ne yalan söyleyeyim, bu tiyatro metni olmasaydı gene yarınlara bırakacaktım sana yazmayı. (4) Lütfen, yayın kuruluna sunulacaklar arasına bu metni de koyuver!..

Nejat Doğan

Bu mektubun yazılma sebebi, numaralandırılmış cümlelerin hangisinde belirtilmiştir?

- A) 1  
B) 2  
C) 3  
D) 4

14.

## AKILLI İŞARETLER

Genel İzleyici  
Kitleleri7 Yaş ve Üzeri  
İçin13 Yaş ve Üzeri  
İçin18 Yaş ve Üzeri  
İçin


Şiddet / Korku



Cinsellik

Olumsuz Örnek  
Oluşturabilecek  
Davranışlar

Mehmet 13 yaşındadır. Yaş grubuna uygun ve zararlı içeriği bulunmayan televizyon programlarını izlemek istemektedir. Akıllı işaretler de izleyiciye bu konuda bilgi vermektedir. Buna göre Mehmet, aşağıdaki programlardan hangisini izlemez?



15. Virgül (,) aşağıdakilerin hangisinde anlam karışıklığını önlemek için kullanılmıştır?

- A) Gök sarı, toprak sarı, çıplak ağaçlar sarı...  
B) Arkadaş, memleket toprağıdır özümüz.  
C) Seslendi yaralı, doktora acıyla bakarak.  
D) Ekinler boy vermeden vakitsiz sararıyor, dedi.

16. Aşağıdaki cümlelerle anlamlı bir paragraf oluşturulduğunda hangisi dışarıda kalır?

- A) Şiirlerimi sana hediye ediyorum.  
B) Çünkü, hepsini senin duygu ve düşüncelerinle yazdım.  
C) Kelimeleri benim olsa bile manası senindir.  
D) Edebiyata şiir yazarak başladım.

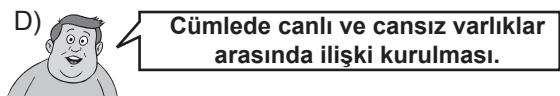
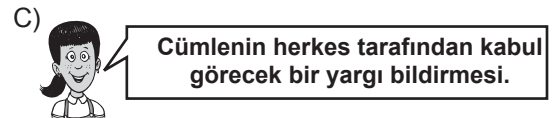
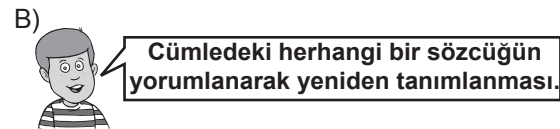
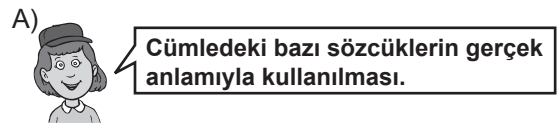
17. Zaman, kıyısında oturup akışını izlediğimiz bir ırmaktır.



Mehmet

Bu cümlenin kişisel görüş ifade etmesinin sebebi nedir?

Mehmet'in sorusuna bu çocuklardan hangisi doğru cevap vermiştir?



18. Yolun her tümseğinde araba sarsıldıkça Hadiye Hanım, çocukları Şayan ve Cahit'in ellerini tutuyordu. Araba, kasaba meydanındaki evlerinin merdivenleri önünde durdu. Cahit ve Şayan önden fırladılar. Kapının kilidini Cahit açtı...

Bu paragrafın eksik bırakılan kısmı aşağıdakilerden hangisidir?

- A) Oda kapısına koştu, dışarı çıktı. Sokak kapısının camı arkasında Behzat Bey durmaktaydı. Elindeki mektup zarfını sallıyordu.
- B) Hadiye Hanım ve Şayan mutfakta hazırlıklara başlamışlardı. Cahit de sofrayı kurma işini üstlenmişti.
- C) Cahit annesini gördü. Meydana bakan pencerelerin önünde, koltuğun sol başında, sırtına yastıklar dayalı, yarı oturur vaziyeteydi.
- D) Ortalığa bir baktılar, ev temizlenmişti. Sobalar kurulmuştu. Oturma ve yatak odasının sobası yakılmıştı.

19. Bu başka bir şey. Yaşama olumlu tarafından bakmakla, umutları diri tutmakla ilintili, sevgi denen şey... Her insanda doğuştan var olan bir özellik. Sevgi dolu ortamlarda gelişir, sevgisiz ortamlarda körelir. Sevgi dolu insan her varlığı sever. Ya da şöyle söyleyeyim: Bir çiçeği seven, insanı nasıl sevmez?

Yazar, insanın doğadaki her varlığı sevebilmesini aşağıdakilerden hangisine dayandırmıştır?

- A) Sevgi dolu ortamda yetişmesine
- B) Yaşamı olduğu gibi görmesine
- C) Varlıkların özelliklerini bilmesine
- D) Kendini tanıyıp geliştirmesine

**TÜRKÇE TESTİ BİTTİ.  
MATEMATİK TESTİNE GEÇİNİZ.**

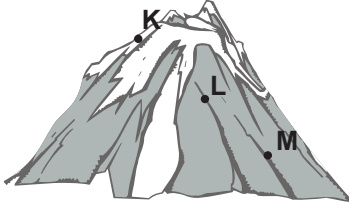
1. Bir ton kullanılmış kâğıt geri kazanıldığında 16 adet çam ağacının kesilmesi önlenmektedir. Ankara Çevre Koruma Vakfı, 2006 yılında 3700 ton kullanılmış kâğıt topladığına göre, kaç çam ağacının kesilmesi önlenmiştir?

A) 231 B) 232  
C) 59 000 D) 59 200

2. Aşağıdakilerden hangisi, birler basamağına yuvarlandığında 1, onda birler basamağına yuvarlandığında 0,5 olur?

A) 0,45 B) 0,48 C) 0,53 D) 0,58

3.



Sıcaklık değeri, yerden yükseldikçe azalmaktadır. Bir dağın, şekilde belirtilen noktalarında aynı anda yapılan bir ölçümde, elde edilen sıcaklık değerleri aşağıdakilerden hangisindeki gibi olabilir?

- A) 

K	L	M
2°C	-19°C	-11°C

 B) 

K	L	M
2°C	-11°C	-19°C
- C) 

K	L	M
-19°C	-11°C	2°C

 D) 

K	L	M
-11°C	-19°C	2°C

4. Bir basketbol maçında Kerem ve Cemil toplam 140 sayı yapmışlardır. Kerem'in yaptığı sayının, Cemil'in yaptığı sayıya oranı  $\frac{3}{4}$ 'tür. Kerem ilk yarıda 18 sayı yaptığına göre, ikinci yarıda kaç sayı yapmıştır?

A) 35 B) 42 C) 53 D) 60

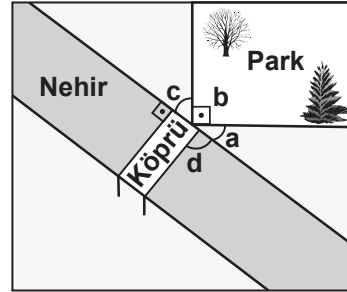
5.

415\_76\_

Gökçe yedi basamaklı olan yukarıdaki bilgisayar şifresinin bazı rakamlarını unutuyor. Bu şifrenin 6 ile bölünebildiğini ve rakamlarının birbirinden farklı olduğunu hatırladığına göre, Gökçe'nin bilgisayar şifresi aşağıdakilerden hangisi olabilir?

A) 4158762 B) 4158763  
C) 4153761 D) 4152762

6.



Yukarıdaki planda verilenlere göre hangi açılar tümlerdir?

A) a ve c B) a ve b  
C) d ve c D) b ve d

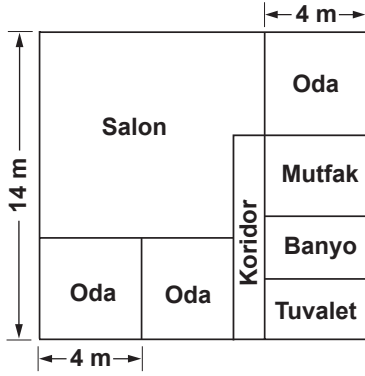
7.



N, M ve L noktaları sıra ile  $[MP]$ ,  $[LN]$  ve  $[KN]$ 'nin orta noktaları olduğuna göre, aşağıdakilerden hangisi yanlıştır?

- A)  $[LM]$  ile  $[NP]$  birbirine eşittir.  
 B)  $[KL]$  ile  $[MP]$  birbirine eşittir.  
 C) M noktası  $[KP]$ 'nin orta noktasıdır.  
 D)  $[LM]$  ile  $[KP]$ 'nin orta noktaları aynıdır.

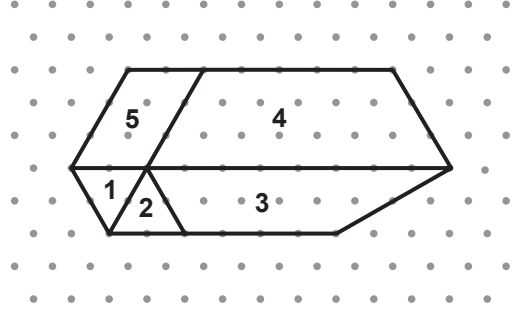
8.



Yukarıdaki planda ev ve odalar kare şeklindedir. Evin bir kenar uzunluğu 14 m, odaların bir kenar uzunluğu 4 m olduğuna göre, bu evin salonu kaç metrekaredir?

- A) 84      B) 88      C) 92      D) 96

9.



Yukarıda, birbirine komşu olan beş tarlanın krokisi çizilmiştir. Bu tarlalardan hangileri arasındaki sınırlar kaldırılırsa, beşgen şeklinde yeni bir tarla oluşur?

- A) 2, 1 ve 5      B) 1, 2 ve 3  
 C) 3, 4 ve 5      D) 2, 3 ve 4

10. Tanesi 4,50 TL'ye satın alınan tişörtlerin her birinin üzerine 1,25 TL'ye yazı yazdırılıyor. Bu tişörtlerin tanesi 9,50 TL'ye satıldığında, x tanesinden elde edilen kârı gösteren cebirsel ifade aşağıdakilerden hangisidir?

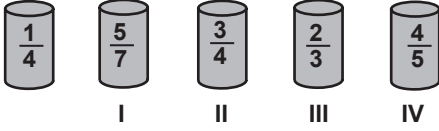
- A)  $(4,50 - 1,25)x - 9,50x$   
 B)  $9,50x - 4,50x + 1,25x$   
 C)  $(4,50 + 1,25)x - 9,50x$   
 D)  $9,50x - 4,50x - 1,25x$

11. Ayrıtlarının uzunlukları 10 cm, 15 cm ve 24 cm olan dikdörtgenler prizması şeklindeki şeker kutusunun içindeki her bir küp şekerin hacmi  $1 \text{ cm}^3$  tür. Kutudaki şekerlerin 900 adedi tüketildiğinde şekerlerin yüzde kaçı kullanılmış olur?

- A) 25      B) 30      C) 40      D) 50



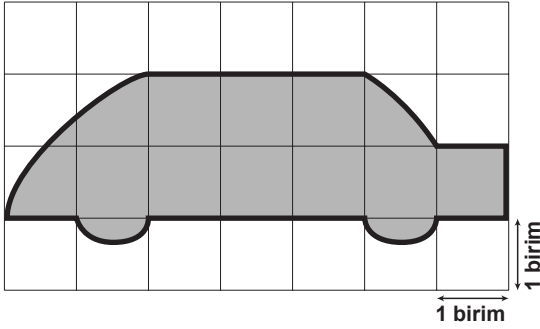
12.



Yukarıda verilen eş bardakların kaçta kaçının su ile dolu olduğu üzerlerine yazılmıştır.  $\frac{1}{4}$ 'inde su bulunan bardak, kaç numaralı bardağa boşaltılırsa o bardaktaki su taşar?

- A) I B) II C) III D) IV

13.



Yukarıdaki şekilde boyalı alanın en yakın tahmini kaç birimkaredir?

- A) 10 B) 12 C) 14 D) 15


14. Tablo: 2005-2006 Yıllarında Kurumların, Kültürel ve Bilimsel Faaliyet ve Katılımcı Sayısı

Kurum Türü	Faaliyet sayısı		Katılımcı sayısı	
	2005	2006	2005	2006
Bakanlık ve bağlı kurum / kuruluş	4553	4471	1 843 810	1 716 687
Üniversite	9939	11 866	3 017 325	3 104 092
Belediye	6181	7637	31 422 755	33 979 202
Özel Sektör	1245	943	1 522 466	4 231 574

Verilen tabloya göre, hangi kurumun düzenlediği faaliyet sayısı azalmasına rağmen, katılımcı sayısı artmıştır?

- A) Özel sektör  
B) Belediye  
C) Üniversite  
D) Bakanlık ve bağlı kurum / kuruluş

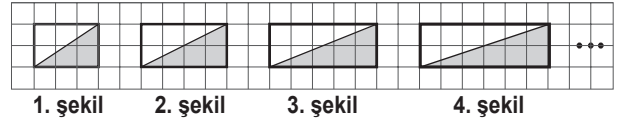
15.



Ayça, dönme dolaba binmek için durmasını bekliyor. Dönme dolap durduğunda Ayça'nın 1'den 10'a kadar numaralandırılmış oturaklardan numarası asal sayı olan birine oturma olasılığı nedir?

- A)  $\frac{3}{10}$  B)  $\frac{2}{5}$  C)  $\frac{1}{2}$  D)  $\frac{3}{5}$

16.

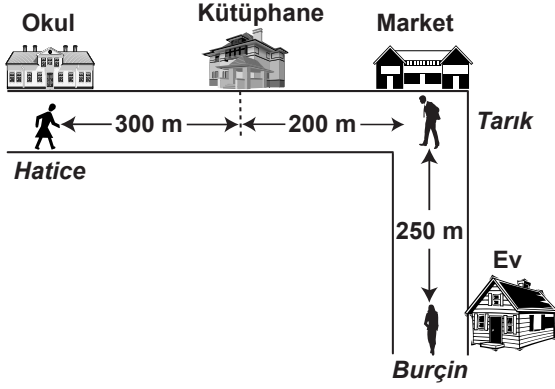


Verilen örüntü aynı kurala göre devam ettirilirse, örüntünün 28. şeklindeki boyalı bölgenin alanı kaç birimkare olur?

- A) 26 B) 28 C) 30 D) 31

MATEMATİK TESTİ BİTTİ.  
FEN VE TEKNOLOJİ TESTİNE GEÇİNİZ.

1.

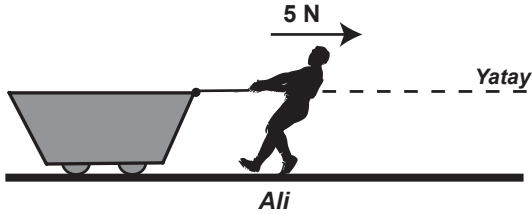


Krokideki kişiler gidecekleri yere, verilen yolu takip ederek varmak zorundadırlar. Hatice okuldan markete 4 dakikada, Tarık marketten kütüphaneye 1 dakikada, Burçin evden kütüphaneye 2 dakikada varmaktadır.

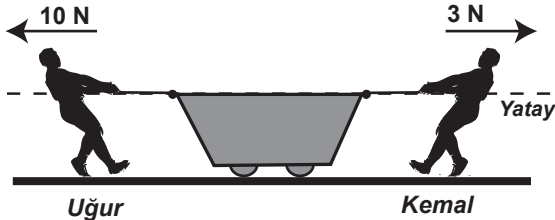
Buna göre, bu kişilerin süratlerinin sıralanışı aşağıdakilerin hangisinde doğru olarak verilmiştir?

- A) Burçin > Hatice > Tarık
- B) Burçin > Tarık > Hatice
- C) Tarık > Burçin > Hatice
- D) Tarık > Hatice > Burçin

2. Ali'nin yatay yolda 5 N'luk kuvvetle çektiği vagon sabit süratle ilerleyebilmektedir.



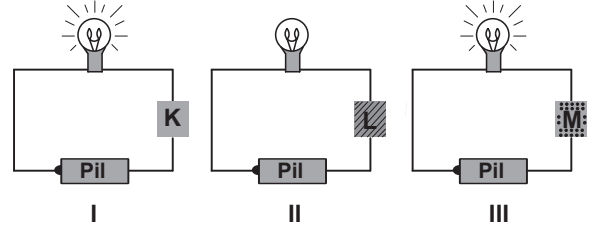
Vagon aynı yolda durmaktayken Uğur ve Kemal tarafından aynı anda şekildeki gibi çekiliyor.



Vagonun bundan sonraki hareketi için aşağıdakilerden hangisi doğru olur?

- A) Hareket etmez.
- B) Kemal'in çektiği yönde hızlanır.
- C) Uğur'un çektiği yönde hızlanır.
- D) Uğur'un çektiği yönde sabit süratle hareket eder.


3. Şekildeki devreyi I, II, III'teki gibi K, L ve M cisimleriyle tamamladığımızda ampulün I ve III'te ışık verdiğini, II'de ise ışık vermediğini görüyoruz.



Buna göre, K, L ve M'nin iletkenlik-yalıtkanlık durumları aşağıdakilerin hangisinde doğru olarak verilmiştir?

- |    | İletken | Yalıtkan |
|----|---------|----------|
| A) | K - M   | L        |
| B) | L       | K - M    |
| C) | K       | L - M    |
| D) | L - M   | K        |

4.

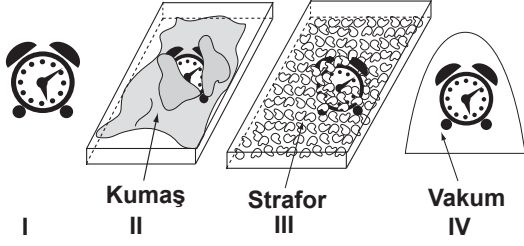


Ahmet otobüsle Ankara'dan İstanbul'a gitmektedir. Yolculuk sırasında otobüsteki dijital saatin otobüsün camında yansıdığını fark ediyor ve bir oyun icat ediyor. Bu oyuna göre, dijital saatin düzlem ayna görevi yapan camdaki yansımasına bakarak gerçek saati bulmaya çalışıyor.

Ahmet cama baktığında şekildeki rakamları gördüğüne göre, gerçekte dijital saatte okunacak değer aşağıdakilerin hangisinde doğru olarak verilmiştir?

- A)
- B)
- C)
- D)

5. Öğretmeni, Neşe'den "sesin şiddetinin soğurulma ile azaldığı" nı gösteren bir deney tasarlamasını istiyor.



Neşe, çalar saat kullanarak hazırladığı düzeneklerden hangi ikisiyle amacına ulaşmış olur?

- A) I - III      B) I - IV      C) II - III      D) II - IV

6. Dört öğrenci yaz tatilinde gittikleri yerlerde çektiği fotoğrafları birbirlerine gösteriyorlar.

Öğrencilerin çektiği fotoğraflarda görülenlerden hangisi doğal anıt değildir?

A)



Pamukkale'de travertenler

B)



Ürgüp'te peri bacaları

C)



Ankara'da Anıtkabir

D)



Bursa'da yaşlı çınar ağacı

7. Ceyda, atom hakkındaki fikirlerin tarihsel gelişimi ile ilgili yaptığı araştırmayı defterine özetlemiştir.

- M.Ö 400'lü yıllarda Democritus, bütün maddelerin aynı tip atomlardan meydana geldiğini belirtmiştir.
- 19.yy'da Dalton, farklı maddeleri oluşturan atomların birbirinden farklı olduğunu açıklamıştır.
- Günümüzde ise atomların kendilerinden daha küçük parçacıklardan oluştuğu anlaşılmıştır. Atom ile ilgili çalışmalar hâlen devam etmektedir.

Bu özete göre, aşağıdakilerden hangisi söylenebilir?

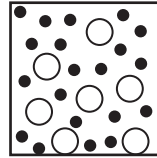
- A) Atomla ilgili görüşlerin tamamı günümüzde de geçerlidir.
- B) Atom hakkında bildiklerimiz zaman içinde değişmiştir.
- C) Günümüzde atom hakkında hiçbir şey bilinmemektedir.
- D) Bilim insanları, atom ile ilgili aynı fikirleri açıklamışlardır.

8.

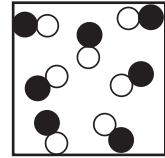


Efe'nin son açıklamasını temsil eden model aşağıdakilerden hangisidir?

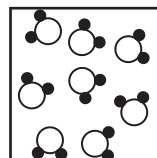
A)



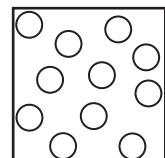
B)



C)

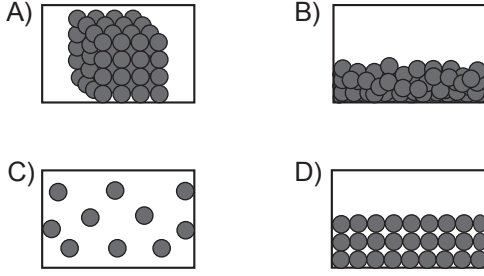


D)

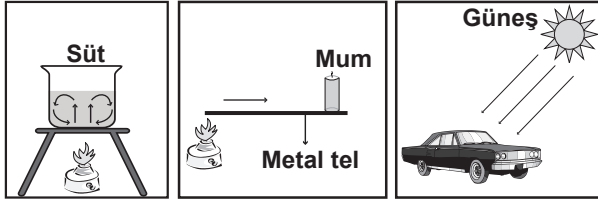


9. Saf bir maddenin;

- Akma özelliği gösterdiği,
- Taneciklerinin bağımsız hareket ettiği bilindiğine göre, maddenin hâline ait tanecik modeli aşağıdakilerden hangisidir?



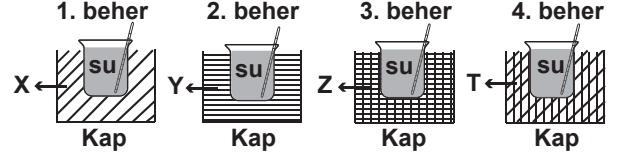
10.



Mehmet sınıfta anlatacağı konu ile ilgili yukarıdaki resimleri hazırlamıştır. Üç resim dikkate alındığında Mehmet'in anlatacağı konu aşağıdakilerden hangisidir?

- A) Isı yalıtımı
- B) Hâl değişimi
- C) Kimyasal değişim
- D) Isının yayılma yolları

11. Bir inşaat mühendisinin elinde X, Y, Z ve T türünde ısı yalıtım malzemeleri vardır. Binada en iyi yalıtım sağlayacak malzemenin hangisi olduğuna karar vermek için aynı ortamda aşağıdaki deneyi yapıyor ve çizelgedeki verileri elde ediyor.



Beherler	Suyun ilk sıcaklıkları (°C)	Suyun 1 saat sonraki sıcaklıkları (°C)
1. beher	60	35
2. beher	60	55
3. beher	60	45
4. beher	60	30

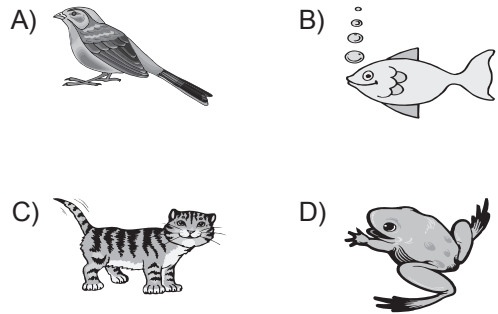
Buna göre, inşaat mühendisi hangi ısı yalıtım malzemesini kullanmalıdır? (Beherler ve kaplar özdeşdir.)

- A) X
- B) Y
- C) Z
- D) T

12.

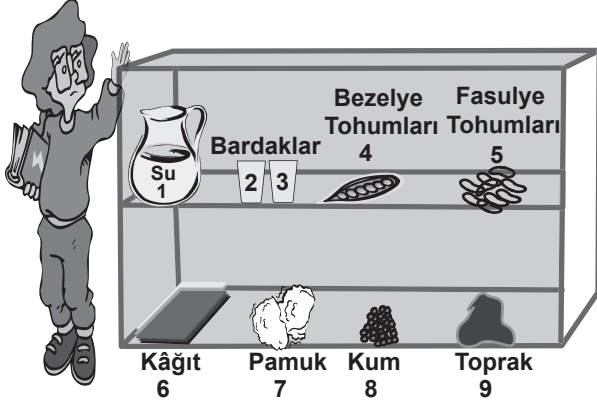
Sorular	Suda yaşar mı?	Başkalaşım geçirir mi?	Embriyo gelişimi anne karnında mı olur?
Hayvan			
?	Evet	Hayır	Hayır

Selma evinde beslediği hayvanla ilgili olarak tablodaki sorulara cevap veriyor. Buna göre, Selma'nın beslediği hayvan hangisidir?



13. Bir öğrenci nemli topraktaki fasulye tohumlarının, nemli pamuk arasındaki fasulye tohumlarından daha önce çimleneceğini düşünüyor.

Bu durumu deneyle gözlemek için aşağıdaki dolaptan kaç numaralı araç ve gereçleri seçmelidir?



- A) 2, 4, 8  
B) 3, 5, 6, 9  
C) 1, 4, 5, 6, 7  
D) 1, 2, 3, 5, 7, 9

14. Mete'nin bugün doğum günü. O, bir yaşında olduğu için ancak elinden tutulunca yürüyebiliyor. Yedinci dişi yeni çıktı.

Sağlıklı ve normal bir gelişim gösteren Mete, iki yıl sonraki doğum gününde aşağıdakilerden hangisini yapabilir?

- A) Merdivenleri kendisi rahat inip çıkabilir.  
B) Sadece sıvı besinler yiyebilir.  
C) Sadece baba, anne, mama sözcüklerini söyleyebilir.  
D) Ayakkabısının bağcıklarını kolayca bağlayabilir.

15. Mine, Sinan ve Hülya, su çiçeği hastalığı geçirmekte olan arkadaşlarını ziyaret etmek istiyor.

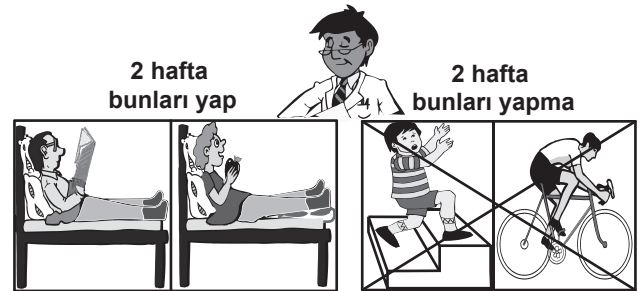
Öğretmen: Bulaşıcı olan bu hastalığa karşı bağışıklık kazanmışsanız gidebilirsiniz. Tablodaki soruları cevaplayarak bağışıklık kazanıp kazanmadığınızı öğrenin.

Sorular İsimler	Su çiçeği hastalığı aşısı oldunuz mu?	Su çiçeği hastalığı geçirdiniz mi?
Mine	Hayır	Hayır
Sinan	Hayır	Evet
Hülya	Evet	Hayır

Tablodaki cevaplara göre öğretmen, kimlerin hastalanan arkadaşlarını ziyaret etmesine izin vermiştir?

- A) Mine ve Sinan  
B) Sinan ve Hülya  
C) Yalnızca Mine  
D) Yalnızca Hülya

16. Ahmet, okul merdivenlerinden koşarak inerken düşüp yaralanmıştır. Öğretmeni onu doktora götürdüğünde; doktor aşağıdaki önerilerde bulunmuştur.



Buna göre, Ahmet'in rahatsızlığı aşağıdakilerden hangisi olabilir?

- A) Kolu kırılmıştır.  
B) Dişleri kırılmıştır.  
C) Dizi burkulmuştur.  
D) El parmakları burkulmuştur.

FEN VE TEKNOLOJİ TESTİ BİTTİ.  
SOSYAL BİLGİLER TESTİNE GEÇİNİZ.

1.

Biz Lidyalılar, Kral Yolu'nu açtık.  
İlk kez madenî parayı kullandık.  
Büyük Menderes ve Gediz  
ırmakları çevresindeki verimli  
topraklarda da her çeşit sebze  
ve meyveyi yetiştirdik.



Bu bilgiye göre Lidyalılarla ilgili olarak;

I- Tarım başlıca geçim kaynaklarından biridir.

II- Ticaretle ileri gitmişlerdir.

III- Bilimsel çalışmalara öncülük etmişlerdir.

IV- Madencilikle uğraşmışlardır.

yargılarından hangilerine ulaşılabilir?

A) I - II

B) II - III

C) I - II - IV

D) I - II - III - IV

2.

Çocuklar, bu durum İslamiyetin aşağıdakilerden hangisine büyük önem verdiğini gösterir?



*Bedir Savaşı'nda esir düşen Mekkelilerden okuma - yazma bilenler, on Müslümana okuma yazma öğretilmeleri karşılığında serbest bırakıldılar.*

A) Eğitime

B) Adalete

C) İbadete

D) Yardımlaşmaya

3. Aşağıda ilk Türk devletlerine ait bazı bilgiler sembollerle verilmiştir:

▲ → Tarihte bilinen ilk Türk devletidir.

◆ → Yerleşik hayata geçen ilk Türk devletidir.

■ → Avrupa'da kurulan ilk Türk devletidir.

★ → Tarihte "Türk" adıyla kurulan ilk devlettir.

Buna göre Kök Türklere ait bilgi hangi sembole gösterilmiştir?

A) ▲

B) ◆

C) ■

D) ★

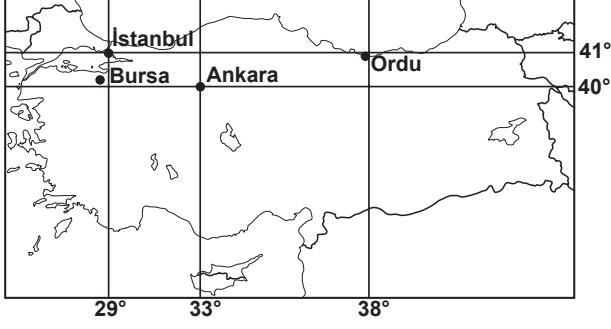
4. Karahanlılar Döneminde;

- İslamiyet resmî din, Türkçe resmî dil olarak benimsenmiş,
- Kaşgarlı Mahmut, Divan-ü Lügati't-Türk adlı eserini yazmış,
- Yusuf Has Hacip, Kutadgu Bilig adlı eserini Karahanlı hükümdarı Tabgaç Buğra Han'a sunmuştur.

Bu bilgilere göre Karahanlılarla ilgili olarak varılabilecek ortak yargı aşağıdakilerden hangisidir?

- A) Karahanlılar Döneminde yazılan Divan-ü Lügati't-Türk, millî kültürümüzün temel eserlerinden biridir.
- B) Türk-İslam kültürünün temelleri Karahanlılar Döneminde atılmıştır.
- C) Karahanlılar Türkçeyi resmî dil olarak benimseyen Türk devletlerindedir.
- D) Karahanlılar ilk Müslüman Türk devletidir.

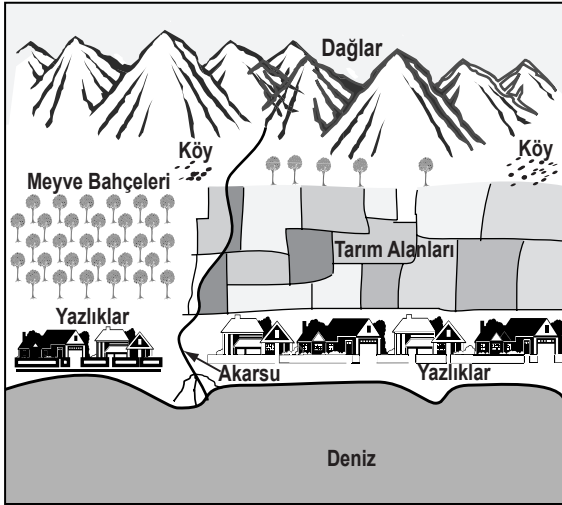
5. Bora: Yaz tatilini geçireceğim şehir, 29° doğu meridyeni ile 40° kuzey paralelinin kesiştiği yere en yakın konumdadır.



Bu şehir aşağıdakilerden hangisidir?

- A) Ordu  
B) İstanbul  
C) Ankara  
D) Bursa

6.



Resimdeki akarsu, yılın belli dönemlerinde taşarak su baskınlarına sebep olmakta, çevresindeki tarım alanlarına ve konutlara büyük zararlar vermektedir. Yaz döneminde ise kuruyarak yöreyi susuz bırakmaktadır.

Bu durumda yapılması gereken en doğru uygulama aşağıdakilerden hangisidir?

- A) Dağlık bölgeye baraj yapmak.  
B) Akarsuyun yatağını değiştirmek.  
C) Tarım arazilerine sanayi tesisleri kurmak.  
D) Yörede ekonomik faaliyetlere son vermek.

7. Fabrika, ev ve arabalarda petrol ve kömür gibi yakıtların kullanımının artması atmosferdeki gazların oranlarında değişimlere neden olmaktadır. Buna bağlı olarak dünya genelinde iklim özelliklerinde önemli değişiklikler ortaya çıkmıştır. İklim değişiklikleri bu şekilde devam ederse bir çok bitki ve hayvan türü buna uyum sağlayamayacak ve yok olacaktır.

Aşağıdakilerden hangisi bu sorunu önlemeye yönelik bir uygulama olamaz?

- A) Enerji kullanımında tasarrufa yönelmek.  
B) Petrol ve kömür tüketimini arttırmak.  
C) Fabrikalarda arıtma tesislerini yaygınlaştırmak.  
D) Doğal çevreye daha az zarar veren enerji kaynaklarına yönelmek.


8. Dağ tırmanışı yapan bir araştırma grubu 3 gün boyunca aynı saatte yükselti ve sıcaklığı ölçmüşlerdir.

Günler	Yükselti (m)	Sıcaklık (°C)
1. Gün	2.000	5
2. Gün	3.000	0
3. Gün	4.000	-5

Tabloda verilen bu ölçümler göz önüne alınarak aşağıdaki yargılardan hangisine ulaşılabilir?

- A) Dağda bitki örtüsü yoktur.  
B) Dağda ekonomik faaliyet yapılamaz.  
C) Yükselti arttıkça hava sıcaklığı düşer.  
D) Dağda kayak tesisleri bulunmaktadır.

9.



Resimdeki kişi, iklim özelliklerindeki değişimden yakınmaktadır.

Buna göre konuşma balonuna aşağıdakilerden hangisi gelmelidir?

- A) Denizlerde eskisi kadar bol balık yok. Bu yüzden gemiyi satışa çıkardım.
- B) Son yıllarda kuraklık öyle bir hâl aldı ki, gölde bu gemiyi yüzdürecek su kalmadı.
- C) Buraya bir deniz feneri inşa etmek gerekiyor, çünkü gemiler karanlıkta karaya oturabilir.
- D) Şimdi daha büyük ve gelişmiş gemiler taşımacılıkta kullanılıyor. Eskisi kadar para kazanamıyorum.

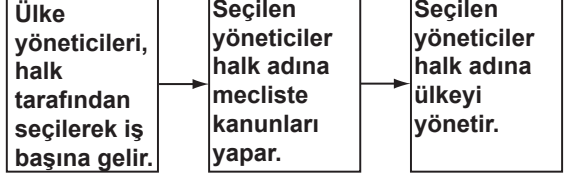
10.



Resimde gösterilen yerin aşağıdaki iklim bölgelerinden hangisinde yer aldığı söylenmez?

- A) Akdeniz iklimi
- B) Muson iklimi
- C) Ekvatorial iklim
- D) Kutup iklimi

11.



Bu diyagram için en uygun başlık aşağıdakilerden hangisi olur?

- A) Tarihte görülen yönetim şekilleri
- B) Monarşi yönetiminin özellikleri
- C) İnsan haklarının gelişim süreci
- D) Demokratik devletlerde ülke yönetim şekli

12. Üç yılda bir düzenlenen "Dünya Su Forumu" bu yıl İstanbul'da yapıldı. Dünyanın hemen her ülkesinden pek çok devlet ve hükümet başkanının katıldığı forumun amacı, suyla ilgili problemlere çözümler bulabilmektir.

Bu açıklama aşağıdaki kavramlardan öncelikle hangisine örnek olur?

- A) Uluslararası işbirliği
- B) Teknolojik gelişme
- C) Toplumsal güvenlik
- D) Kültürel değişme

13.

Bu ay telefonla az konuşmuş olmama rağmen telefon faturamın yüksek gelmesinden şikâyetçiyim.



Beyefendi, lütfen kurumumuza ..... ile başvurarak bu şikâyetinizi bildiriniz.



Yukarıdaki boşluğa hangisi getirilmelidir?

- A) Gazete ilanı
- B) Dilekçe
- C) Nüfus cüzdanı
- D) Telefon cihazı



**DİN KÜLTÜRÜ VE AHLAK BİLGİSİ DERSİNİ OKUYANLAR AŞAĞIDAKİ SORULARI CEVAPLAYACAKLAR. OKUMAYANLAR BUNUN YERİNE AYNI NUMARALI SOSYAL BİLGİLER SORULARINI CEVAPLAYACAKLAR.**

14.

Birer insan olarak peygamberler, insanların duygularını, düşünce biçimlerini ve ihtiyaçlarını iyi bilirler. Bu yüzden insanlarla iyi iletişim kurar ve ilahî mesajın anlaşılmasını kolaylaştırırlar. Ayrıca bir insanın, Allah'ın buyruklarını en iyi nasıl yerine getirebileceğini uygulamalı olarak gösterirler.



**Yukarıdaki bilgileri veren öğretmen hangi konuyu açıklamaktadır?**

- A) Peygamberlere imanın davranışlar üzerindeki etkisi
- B) Peygamberlerin niteliklerini bilmenin önemi
- C) Peygamberlerin insanlar arasından seçilme nedenleri
- D) Peygamberlere gelen mesajların ortak amaçları

15.

### MEDİNE SÖZLEŞMESİ'NDEN

- \* Müslümanlarla Yahudiler ve Puta tapıcılar barış içinde yaşayacaklar.
- \* Medine'deki her topluluk kendi dinini serbestçe yaşayabilecek.
- \* Dışarıdan gelen saldırılara karşı Medine birlikte savunulacak.
- \* İnsanlar arasında çıkacak problemlerde Hz. Muhammed hakem olacak.

**Medine'ye hicretten sonra imzalanan yukarıdaki sözleşme, Hz. Muhammed'in en çok hangi özelliğinin sonucudur?**

- A) Toplumsal barışa verdiği önemin
- B) Müslümanlar arasında kardeşliğe verdiği önemin
- C) İnsanların can ve mal güvenliğini koruma isteğinin
- D) İnsanlar arasındaki anlaşmazlıkları çözüme kavuşturma yeteneğinin

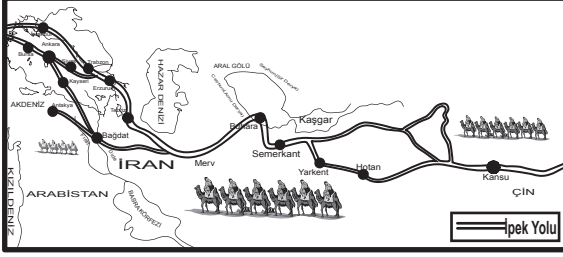
- 16. • Birbirine küskün iki arkadaşı barıştırmak**  
**• Dedikodu yapan ve insanların kusurlu yönlerini bulmaya çalışan arkadaşımızı uyarmak**  
**• Toplumdaki olumsuzlukların giderilmesi için çalışmak**  
**• İnsanları küçümseyen ve onlarla alay eden birine bu davranışın doğru olmadığını açıklamak**

**Bu davranışların tümünü aşağıdakilerden hangisine örnek gösterebiliriz?**

- A) Her zaman doğru sözlü ve dürüst olmaya
- B) Kötü davranışlar karşısında duyarlı olmaya
- C) Başkalarında var olan güzellikleri saygıyla kabullenmeye
- D) İnsanların kusurlarını dile dolayıp onları küçük düşürmekten kaçınmaya

**DİN KÜLTÜRÜ VE AHLAK BİLGİSİ DERSİNİ OKUMAYANLAR AŞAĞIDAKİ SOSYAL BİLGİLER SORULARINI CEVAPLAYACAKLAR.**

14.



İpek Yolu'nda ipeğin yanı sıra el dokumaları, değerli taşlar, kürk, tahıl, cam, yağ, bal, fil dişi gibi ürünler de kervanlar aracılığıyla taşınıyordu.

Bu bilgiye göre İpek Yolu'nun devletler arası ilişkilerde öncelikle hangi alanda bir köprü oluşturduğu söylenebilir?


- A) Kültürel  
B) Siyasi  
C) Ekonomik  
D) Sosyal

15. Güneydoğu Anadolu Projesi (GAP), ülkemizin güneydoğusunda yer alan illeri kapsayan büyük bir projedir. Proje kapsamında Fırat ve Dicle nehirleri üzerinde çok sayıda baraj ve hidroelektrik santrallerinin yapımı, 1.7 milyon hektar alanın sulu tarıma kavuşturulması planlanmaktadır. Bunun sonucunda bölgede, enerjide ve tarım alanlarında üretim artışı amaçlanmaktadır.

Metne göre GAP'ın temel hedefi aşağıdakilerden hangisidir?

- A) Bölgede enerji ve tarımsal üretimi arttırmak.  
B) Bölgenin haberleşme altyapısını geliştirmek.  
C) Bölgede ulaşım faaliyetlerinin gelişmesini sağlamak.  
D) Fırat ve Dicle nehirlerinin taşkın yapmasını engellemek.

16.



Yukarıdaki resimlerde görülen mesleklerin gerektirdiği ortak beceri hangisidir?

- A) Elektronik aletleri tamir edebilmek.  
B) İnsanlarla başarılı iletişim kurabilmek.  
C) Herhangi bir müzik aleti çalabilmek.  
D) Çizim ve tasarım yapabilmek.


**SOSYAL BİLGİLER TESTİ BİTTİ.  
YABANCI DİL TESTİNE GEÇİNİZ.**

BU GRUPTAKİ SORULAR YABANCI DİLLERE AİTTİR. OKUDUĞUNUZ YABANCI DİLE AİT SORULARI CEVAPLANDIRINIZ.

## İNGİLİZCE


1.- 10. sorularda boş bırakılan yerlere uygun düşen sözcük veya ifadeyi bulunuz.

1.



- A) Taking photographs is my hobby.  
 B) I'm good at basketball.  
 C) I enjoy cycling.  
 D) We love dancing.

2.




- A) wash your hands often  
 B) see a dentist  
 C) drink hot chocolate  
 D) help the doctor

3. Emre'nin kilosunu ile ilgili söyleyebileceği seçeneği işaretleyiniz.



- A) give up eating junk food  
 B) do my homework  
 C) eat more  
 D) play computer games

4.



Özge

Gözde

- A) father  
B) mother  
C) uncle  
D) sister

5.




- A) Call the doctor!  
B) Don't panic!  
C) Keep your room clean!  
D) Calm down!

6.




- A) a lot of sugar  
B) an umbrella  
C) a radio  
D) some newspapers

7.



- A) How many do you want?  
B) What's your favourite toy?  
C) How much is that big bone?  
D) What's your job?


8.



He's going to .....

- A) play the guitar.  
B) make a sandwich.  
C) watch television.  
D) break the microphone.


9.



They are .....


- A) sleeping                      B) camping  
C) studying                      D) running

10.



- A) At eleven o'clock.  
B) Tomorrow night.  
C) On Monday.  
D) Yesterday morning.

11.



Okan Sevgi Murat Barış İbrahim

- A) Sevgi                              B) Okan  
C) Barış                              D) Murat

12.

I'm listening to my teacher.  
She's teaching Geography now.  
Where am I?







- A) On the school-bus.  
B) In the canteen.  
C) In the classroom.  
D) At the laboratory.

13.

I'm small and green.  
I've got four legs. I live in lakes.  
I can swim and jump but I can't fly.  
I like flies and lettuce. Who am I?

?

- A)                       B)   
C)                       D) 

# ALMANCA

1.- 8. sorularda boş bırakılan yerlere uygun düşün sözcük veya ifadeyi bulunuz.

1. Manfred :Guten Tag! Wer bist du?  
 Otto : Guten Tag! Ich ..... Otto.  
 Manfred : Wie alt bist du?  
 Otto : Ich bin 12 Jahre .....

A) sind / alt                      B) bist / alten  
 C) ist / jung                      D) bin / alt

2.



A) spielen   B) spiele   C) spielt   D) lernen

3.



A) aus                      B) nach                      C) zu                      D) im

4.



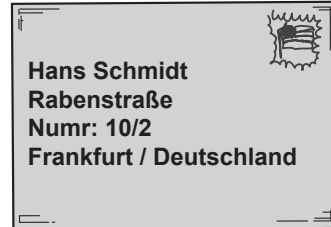
A) von                      B) ins                      C) um                      D) in

5.



A) über                      B) auf                      C) unter                      D) ins

6.



Petra : Woher kommt der Brief?  
 Tanja : Der Brief kommt ..... Frankfurt.

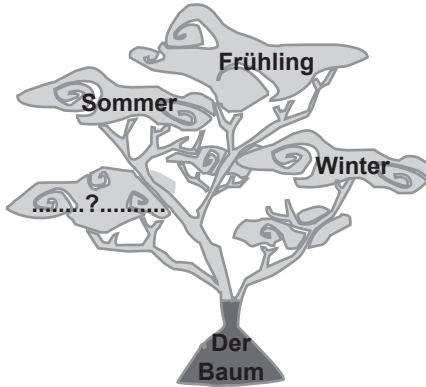
A) vom                      B) von                      C) ins                      D) zu

7.



- A) Sonntag  
C) Donnerstag
- B) Samstag  
D) Vormittag

8.




- A) Herbst  
C) Freitag
- B) März  
D) Vormittag

9. "7 – 10 – 11 – 12" rakamlarının sırasıyla Almanca yazılışlarının bulunduğu seçeneği işaretleyiniz.

- A) sechs / neun / zehn / elf.  
B) sieben / zehn / elf / zwölf.  
C) acht / zehn / zwei / drei.  
D) sieben / zwölf / fünf / acht.

10. Wie spät ist es?



- A) Es ist fünf vor drei.  
B) Est is drei Uhr.  
C) Es ist fünf nach drei.  
D) Es ist viertel vor drei.

11. Was möchte Monika essen?

- A) Kaffee  
C) Wasser
- B) Tee  
D) Suppe

12. Aşağıda verilen sözcükler anlam bakımından gruptandırıldığında hangisi diğerlerinden farklıdır?

- A) Deutsch  
C) Zeugnis
- B) Englisch  
D) Biologie

13. Kurallı bir cümle oluşturunuz.

Ich / heute / machen / will /

1 2 3 4

meine Hausaufgabe

5

- A) 1 / 4 / 2 / 5 / 3  
C) 3 / 2 / 1 / 4 / 5
- B) 1 / 2 / 3 / 4 / 5  
D) 5 / 4 / 1 / 3 / 2


## FRANSIZCA

1.- 3. sorularda boş bırakılan yerlere uygun düşün sözcük veya ifadeyi bulunuz.

1. Jacques : Moi, j'aime le football. Et toi?  
Hélène : ....., je préfère le tennis.

- A) Elle B) Toi C) Lui D) Moi


2.



Sylvester aime beaucoup Tweety mais Tweety ..... Sylvester.

- A) habite B) déteste  
C) achète D) travaille

3.



- A) Bonne nuit maman.  
B) Bonjour maman.  
C) Bon après-midi maman.  
D) Bonne journée maman.

4.

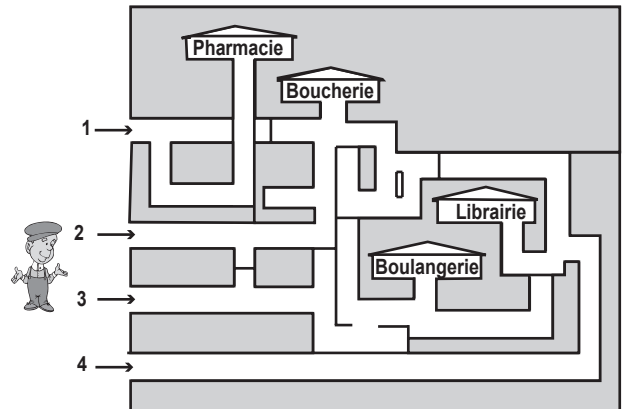
Salut,  
Je m'appelle Elif.  
J'ai 13 ans. Je suis collégienne.  
J'habite à Ankara. Je suis turque.  
Je cherche une amie française.

Elif YILMAZ

Yukarıdaki mektubu yazan öğrencinin kimlik bilgileri aşağıdaki hangi seçenekte doğru verilmiştir?

- A) Nom: Elif  
Prénom: Yılmaz  
Age: 13 ans  
Nationalité: Collégienne
- B) Nom: Elif  
Prénom: Yılmaz  
Age: 13 ans  
Nationalité: Turque
- C) Nom: Yılmaz  
Prénom: Elif  
Age: 13 ans  
Nationalité: Française
- D) Nom: Yılmaz  
Prénom: Elif  
Age: 13 ans  
Nationalité: Turque

5.




Ali, kaç numaralı yoldan giderse ekmek alabilir?

- A) 1 B) 2 C) 3 D) 4



6.



Yarışı kaç numaralı kaplumbağa kazanmıştır?

- A) Quatorze                      B) Quinze  
C) Treize                            D) Douze

7. Aşağıda verilen balonlardan hangisi tamamen eril (masculin) sözcüklerden oluşmuştur?

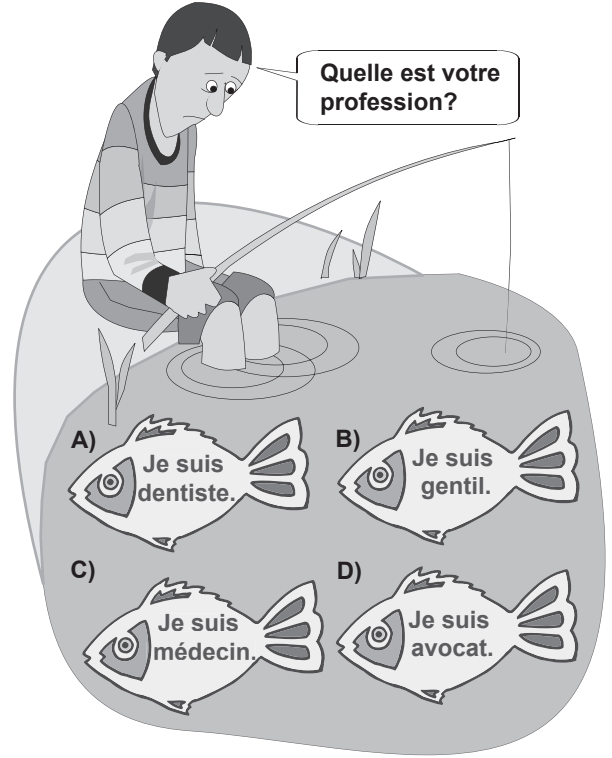
- A) banque  
moustache  
grande  
turque
- B) école  
journaliste  
française  
télévision
- C) sport  
père  
italien  
médecin
- D) avocate  
blonde  
chanteuse  
anglaise

8. "Il est treize heures et demie."

Yukarıda belirtilen saat hangi seçenekte doğru verilmiştir?

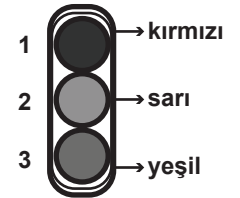
- A)
- B)
- C)
- D)

9. Aşağıdakilerden hangisi balıkçının sorusuna yanlış cevap vermiştir?



10. Trafik işaret cihazındaki renklerin hangisinde doğru verilmiştir?

- |          | 1     | 2     | 3 |
|----------|-------|-------|---|
| A) rouge | jaune | vert  |   |
| B) vert  | rouge | jaune |   |
| C) jaune | rouge | vert  |   |
| D) vert  | jaune | rouge |   |



11. "C'est un chien méchant." cümlesinde anlatılan ifade hangisidir?

A)



B)



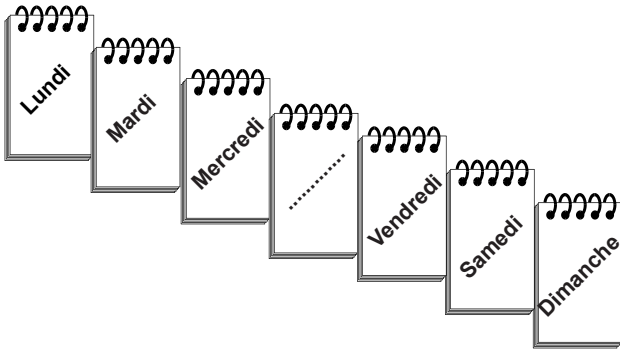
C)



D)



12.



Yukarıdaki takvim yapraklarında eksik olan gün hangi seçenekte verilmiştir?

A) Midi

B) Avril

C) Jeudi

D) Mari

13. Resme göre aşağıdaki ifadelerden hangisi doğrudur?



A) Le cinéma est entre la banque et la poste.

B) La poste est entre la pharmacie et la banque.

C) La pharmacie est entre la poste et le cinéma.

D) La banque est entre le cinéma et la poste

## İTALYANCA

1. A : Sei spagnola?

B : No, messicana. E tu, .....?

A : Di Roma, ma abito a Bologna.

B : .....?

A : Alessandra, e tu?

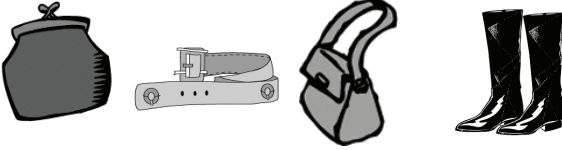
B : Daniela

Dialogtaki boşlukları doğru şekilde dolduran seçenek aşağıdakilerden hangisidir?

- A) dove è? / come si chiama?  
 B) dove sei? / come ti chiami?  
 C) di dov'è sei / come ti chiami?  
 D) di dove sei? / come ti chiami?

2. Aşağıdaki seçeneklerin hangisi "bunlar nedir?" sorusunun cevabını resimlerin sırasına göre doğru vermiştir?

Insegnante: Ragazzi, che cosa sono queste?



- A) queste è la borsa, gli stivali, il portafoglio, la cintura  
 B) questi sono il portafoglio, la cintura, la borsa, gli stivali  
 C) questa sono la cintura, la borsa, gli stivali, il portafoglio  
 D) queste sono il portafoglio, la cintura, la borsa, gli stivali


3. "Potere" fiilinin çekimine göre aşağıdaki seçeneklerden doğru olanı işaretleyiniz.  
 - Ho mal di denti, non ..... parlare  
 - Luigi ed io non ..... venire a lezione perché siamo malati.

- A) posso / possiamo      B) puoi / possiamo  
 C) possa / potiamo      D) posso / potiamo

4. Aşağıdaki bilgilerden hangisi yanlıştır?

- A) Marzo, Aprile, Maggio: Primavera  
 B) Dicembre, Gennaio, Febbraio: L'inverno  
 C) Settembre, Ottobre, Novembre: L'autunno  
 D) Luglio, Agosto, Settembre: L'estate

5. Aşağıdaki cümlelerden gramer yapısı ve salonda bulunan kelimeler açısından doğru olanı işaretleyiniz.



- A) nella questa sala ci sono la libreria, i libri, il vaso, il televisore  
 B) n questa sala c'è il lampadario, il telecomando, il gatto, la paltrona  
 C) in questa sala ci sono i libri, un divano, un televisore, e un quadro  
 D) nella questa sala ci sono i fiori, i libri, due persone, il bicchiere

6. Verilen seçeneklerden doğru olanı işaretleyiniz.

Venerdì è il ..... giorno della settimana.

- A) primo      B) quinto      C) secondo      D) sesto

7. Boşluğa gelebilecek uygun seçeneği bulunuz.

La settimana prossima l'amico di Catia ..... da Bologna per Natale.

- A) ritornerai                      B) ritornerò  
C) ritornerà                        D) ritornerà

8. Aşağıdaki cümlelerden hangisi doğrudur?

- A) facciamo ancora tanti errori.  
B) facciamo ancora tanti errori.  
C) famo ancora tanti errori.  
D) facciamo ancora tanto errore.

9. Aşağıdaki cümlede bulunan boşluğu uygun fiille şimdiki zamanda doldurunuz.

Stasera Marco non ..... perchè domani parte.

- A) arrivi    B) viene    C) vieni    D) parta

10. Diyalogu tamamlayınız.

Andrea : Egregio professore, come .....?

Professore : Tutto bene, grazie. E tu, come stai?

Andrea : Anchi'o sto bene, grazie. Non ..... piu' mal di stomaco?

Professore : No, per fortuna!

Andrea : Sono molto contento per Lei. Arriver La!

Professore : A dopo.

- A) sta / ha                              B) stai / ho  
C) stai / hai                             D) sta / hai

11. Boşlukları şıklarda verilen prepozisyonlarla doldurunuz.

Angela visita ..... suoi genitori spesso. Perchè lei vive da sola e vuole vedere la sua famiglia ogni tanto. Lei quando esce ..... i suoi amici, sua madre telefona a Angela , per sentire la sua voce.

- A) dai / per                              B) dai / con  
C) ai / per                                D) i / con

12. Aşağıdaki boşlukları tamamlayınız.

A Parma ..... una chiesa antica e ..... degli alberghi economici.

- A) ci sono / c'è                        B) ci sono / ci sono  
C) c'è / ci sono                        D) c'è / c'è

13. .... madre invita ..... amici per cena stasera.

Boşlukları iyelik ekleriyle tamamlayınız.

- A) mia / i miei                            B) la mia / i miei  
C) il mio / i miei                        D) la mia / le mie

TEST BİTTİ.

CEVAPLARINIZI KONTROL EDİNİZ.

Soracağınız bir şey var mı? Varsa, şimdi sorunuz; sınav başladıktan sonra sorularınıza cevap verilmeyecektir. Hazır mısınız? Sınav, okulun bütün salonlarında aynı anda başlayacağı için başlama zili ni beraberce bekleyelim. Hepinize başarılar dileriz.

**(Salon başkanı başlama ve bitiş saatini tahtaya yazacaktır.)**

**Bu kitapçığın her hakkı saklıdır. Hangi amaçla olursa olsun, kitapçığın tamamının veya bir kısmının Millî Eğitim Bakanlığı Eğitim Teknolojileri Genel Müdürlüğünün yazılı izni olmadan kopya edilmesi, fotoğraflarının çekilmesi, bilgisayar ortamına alınması, herhangi bir yolla çoğaltılması, yayımlanması veya başka bir amaçla kullanılması yasaktır. Bu yasağa uymayanlar, doğabilecek cezai sorumluluğu ve kitapçığın hazırlanmasındaki mali külfeti peşinen kabullenmiş sayılır.**

TÜRKÇE	MATEMATİK	FEN ve TEKNOLOJİ	SOSYAL BİLGİLER	YABANCI DİL
1. B	1. D	1. B	1. C	1. D
2. A	2. C	2. C	2. A	2. B
3. A	3. C	3. A	3. D	3. A
4. B	4. B	4. D	4. B	4. D
5. C	5. A	5. A	5. D	5. C
6. C	6. A	6. C	6. A	6. B
7. A	7. C	7. B	7. B	7. C
8. D	8. B	8. A	8. C	8. A
9. A	9. D	9. C	9. B	9. B
10. B	10. D	10. D	10. D	10. A
11. C	11. A	11. B	11. D	11. D
12. D	12. D	12. B	12. A	12. C
13. C	13. B	13. D	13. B	13. A
14. B	14. A	14. A	14. C	
15. C	15. B	15. B	15. A	
16. D	16. C	16. C	16. B	
17. B				
18. D				
19. A				