

6.
SINIF



T.C.
MİLLÎ EĞİTİM BAKANLIĞI

KİTAPÇIK TÜRÜ

A

6. SINIF SEVİYE BELİRLEME SINAVI SORU KİTAPÇIĞI
21 HAZİRAN 2008 Saat: 10.00

Adayın Adı ve Soyadı :

Aday No (T.C. Kimlik No) :

DİKKAT: 1. Soru kitapçıklarını kontrol ederek, baskı hatası olan kitapçığın değiştirilmesi için salon sorumlularına başvurunuz.
2. Soru kitapçığının ön ve arka yüzündeki açıklamaları okuyunuz.
3. Sınavda hesap makinesi, cep telefonu ve çağrı cihazı kullanılması yasaktır. Bu cihazları sınav başlamadan önce salon başkanına teslim ediniz.

CEVAP KÂĞIDI İLE İLGİLİ AÇIKLAMA

1. Cevap kâğıdı üzerine yapacağınız işaretlemelerde siyah kurşun kalemden başka kalem kullanmayınız.
2. **Cevap kâğıdındaki bilgilerin size ait olup olmadığını kontrol ediniz.** Cevap kâğıdı kullanılamayacak durumdaysa veya size ait değilse verilecek yedek cevap kâğıdına, kimliğinizle ilgili bilgileri, salon başkanının açıklamalarına göre yazınız.
3. **Kitapçık türünü cevap kâğıdınızın ilgili bölümüne mutlaka işaretleyiniz.**
4. Cevap kâğıdında **TÜRKÇE, MATEMATİK, FEN ve TEKNOLOJİ, SOSYAL BİLGİLER ve YABANCI DİL (İNGİLİZCE, ALMANCA, FRANSIZCA, İTALYANCA)** testleri için beş ayrı sütun bulunmaktadır. Cevaplarınızı cevap kâğıdındaki ilgili sütunlara aşağıdaki örnekte olduğu gibi yuvarlağı, dışına taşırmadan işaretleyiniz.
Yanlış karalamalarınızı düzeltirken yuvarlağın içini temizce siliniz.

ÖRNEK KODLAMA

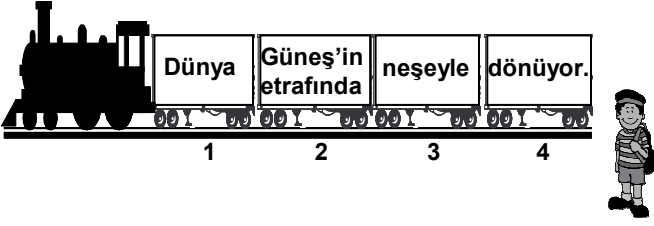
(A) (B) (C) (D)

SORU KİTAPÇIĞI İLE İLGİLİ AÇIKLAMA

1. Bu soru kitapçığında **TÜRKÇE testinde 19, MATEMATİK testinde 16, FEN ve TEKNOLOJİ testinde 16, SOSYAL BİLGİLER testinde 16 ve YABANCI DİL (İNGİLİZCE, ALMANCA, FRANSIZCA, İTALYANCA) testinde 13** olmak üzere toplam **80** soru bulunmaktadır. Kitapçığın tümü için verilen cevaplama süresi **90 dakikadır**.
2. Her sorunun dört seçeneğı vardır. Dört seçenekten sadece bir tanesi doğru cevaptır. Doğru bulduğunuz seçeneğı cevap kâğıdında o soru için ayrılan yerde bularak işaretleyiniz.
3. Size ayrı bir karalama kâğıdı verilmeyecektir. Soru kitapçığının içindeki boş alanları karalama yapmak için kullanabilirsiniz.
4. Cevabını bilmediğiniz sorular üzerinde fazla zaman kaybetmeden diğer sorulara geçiniz. Zamanınız kalırsa bu sorulara daha sonra dönebilirsiniz.
5. Puanlamada her soru grubu için yanlış cevap sayısının **üçte biri, doğru cevap sayısından çıkarılarak** geçerli cevaplara karşı gelen ham puan tespit edilecektir. Bu nedenle rastgele cevaplama yapmayınız.
6. Sınavın bitiminde cevap kâğıdınızı ve soru kitapçığınızı salon sorumlularına teslim etmeyi unutmayınız.

BAŞLAYINIZ DENİLMEYEN SORU KİTAPÇIĞINI AÇMAYINIZ.

1.



Numaralandırılmış bu vagonlar yan yana geldiklerinde bir cümle oluşturmaktadır. Sinan, bu cümlelerin “kişisel görüş” ifade etmesine neden olan vagona binmek istemektedir. Buna göre Sinan, kaç numaralı vagona biner?

- A) 1 B) 2 C) 3 D) 4

2. Aşağıdakilerin hangisinde altı çizili ifade “gerçeği söylemek gerekirse” anlamında kullanılmıştır?

- A) Açık kapının önünde birkaç dakika konuştuk.
 B) Ona açıktan açığa çıkışmaya cesaret edemiyordu.
 C) Açıkçası, havuzda yüzmekten pek hoşlanmıyorum.
 D) Bu iki örnek açık seçik haklılığımızı ispatlıyor.

3. Yağmurun yağmasını dört gözle bekliyorum suyumuzun bitmesinden korkuyorum.

Bu cümlede boş bırakılan yere aşağıdakilerden hangisi getirilmelidir?

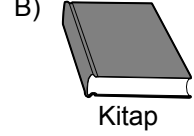

- A) fakat B) çünkü
 C) ama D) ne var ki

4. Doğal ve sade bir yaşamı tercih ediyorum. Bu yüzden paraya, eşyaya ve eğlenceye önem vermiyorum. Kitap okuyarak, sanat ve bilimle meşgul olarak yaşıyorum. Küçük mutluluklardan aldığım heyecanla ruhumu yeniliyorum.

Bu paragrafın yazarından aşağıdakilerin hangisini yapması beklenmez?

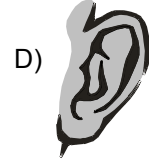
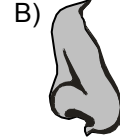
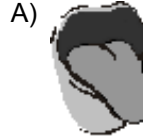
- A) Bilgisayarı oyun oynamak için kullanması
 B) Resim sergilerini ve konserleri takip etmesi
 C) Dünya ve Türk klasiklerini okuması
 D) Fizik alanında deneyler yapması

5. Aşağıdakilerden hangisi kullanılış amacına göre diğerlerinden farklıdır?

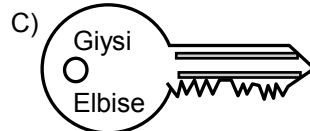
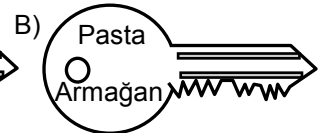
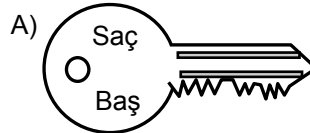


6. Geçen yaz, tatilimizi geçirmek üzere Bolu'ya gittik. Burası küçük bir kent. Buz gibi suyu, mis kokan havasıyla tatil için uygun bir yer. Ayrıca yemekleri de çok lezzetli.

Bu parçada aşağıdaki duyu organlarından hangisiyle ilgili bir ayrıntıya yer verilmemiştir?



7. Erdem, kütüphanede kitap okumak istemektedir. Fakat kapı kilitlidir. Kilidi, üzerinde “eş anlamlı” kelimelerin yazılı olduğu anahtar açmaktadır. Buna göre Erdem, aşağıdaki anahtarlardan hangisini kullanmalıdır?



8. Sanço yel değirmenlerini görür, Don Kişot devleri. Sonra kaçınılmaz diyalog:




- Yel değirmenlerini neden dev zannediyorsun?
- Peki ya sen neden devleri yel değirmeni zannediyorsun?

Bu parçadaki durum aşağıdakilerin hangisiyle ifade edilir?

- A) Aynı yere bakıp farklı şeyler görmek
- B) Yeni fikirleri sorgulamadan kabul etmek
- C) Her olayın iyi tarafıyla meşgul olmak
- D) Eğlendirici ve geliştirici etkinlikler yapmak

9. Kendimi ve etrafımdaki olayları gün geçtikçe daha çok anlamaya başlamıştım. Bunun sebebi; eskisine göre biraz daha hissetmem, düşünmem ve böylece daha fazla görmemdi. Artık bütün gördüklerimi ve hissettiklerimi resimle ifade edebiliyordum.

Bu paragrafta kendisini anlatan ressam, aşağıdaki resimlerin hangisinde sadece gördüklerini ifade etmiştir?

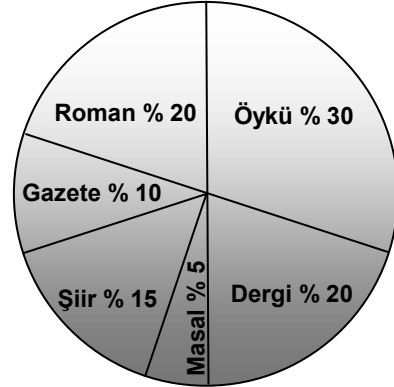


10. (1) Gölün kuruması ise, en çok iki kazla bir kurbağayı rahatsız etmiş. (2) Ne yapalım ne edelim, diyerek üç arkadaş kafa kafaya vermişler. (3) Sevgili dostum fare, geçmiş olsun, nasıl oldu da girdin bu kapana? (4) Deniz gittikçe kabarıyor. (5) Tilki bakmış sesin geldiği yöne, gördüğünden bir şey anlayamamış. (6) Sonunda içlerinden birisinin aklına, başka bir yere göç etmek gelmiş. (7) Zaten başka çıkar yolları yokmuş; gittikçe kuruyan, bataklık bir yerde yaşamak çok zormuş.

Bu paragraftaki numaralandırılmış cümleler dört ayrı masaldan alınmıştır. Aşağıdakilerin hangisinde aynı masala ait cümleler bir arada verilmiştir?

- A) 1, 3, 4, 7
- B) 2, 3, 4, 6
- C) 3, 4, 5, 6
- D) 1, 2, 6, 7

11.



Bu grafik, Ayşe'nin yaz tatilinde okuduklarına ayırdığı zaman oranlarını göstermektedir. Buna göre aşağıdakilerden hangisi söylenebilir?

- A) Okuma saatlerinin çoğunda öykü, roman ve dergi okumuştur.
- B) Romandan daha çok şiirle vakit geçirmiştir.
- C) Gazete okumaya dergi okumaktan daha çok zaman ayırmıştır.
- D) Masal ve şiire ayırdığı zaman birbirine eşittir.

12. Etrafındakiler, yeni doğan bebek için sırayla şunları dilemişler: Yüz güzelliği, selvi boy ve zenginlik. Bunları duyan bilge kişi ise “Ben onun için iyilik diliyorum. Çünkü sizin söylediğiniz güzellikler bir çiçek gibi solabilir, geçicidir; iyilik ise tükenmez bir hazinedir.” demiş.

Bu parçada asıl anlatılmak istenen aşağıdakilerden hangisidir?

- A) Yüz güzelliğinin zenginlikten üstün olduğu
B) İnsanlarla çiçeklerin birbirine benzediği
C) İyiliğin geçici güzelliklerden önemli olduğu
D) Bilge kişilerin sözlerine değer verdiği

13.

Karlı dağları aşan Mehmetçimizin ayaklarının üşüdüğünü düşündük ve bu sorunu çözmek için bir proje yapmaya karar verdik.



Mehmet, Ufuk ve Emre birlikte bir proje geliştirdiler.

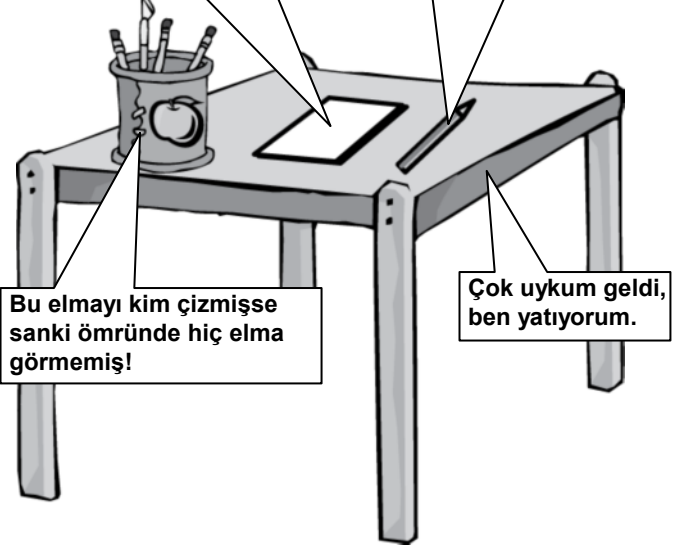
Aşağıdakilerden hangisi bu projenin tamamlanmış olduğunu ifade eder?

- A) Ayakkabının içindeki sıcaklığı 22 – 23 dereceye çıkarmayı düşündüler.
B) Ayakkabının ısıtılmasını, tabanına bir batarya yerleştirerek sağladılar.
C) Ayakkabıya yerleştirilebilecek bir ısıtıcı yapmayı tasarladılar.
D) Araştırma yaparak elektronik devreler hakkında bilgi edindiler.

14.

Üstünde silgisi olan kalemleri hiç anlamam. Hem yazacaksın hem de yazdıklarını sileceksin. Olmaz, olmaz öyle şey!

Kısa bir fabl yazalım mı, ne dersiniz?



Bu elmayı kim çizmişse sanki ömründe hiç elma görmemiş!

Çok uykum geldi, ben yatıyorum.

Bu eşyalardan hangileri “eleştiri” yapmıştır?

- A) Masa – Kalem
B) Kalemlik – Kâğıt
C) Kâğıt – Masa
D) Kalem – Kalemlik

15. Küçük çocuk benden bir kuzu resmi çizmemi istedi. Hemen kâğıdı kalemi aldım elime. Fakat beğendiremedim yaptığım resimleri. En sonunda “İstediyim kuzu bunun içerisinde.” diyerek hava delikleri olan bir kutu çizdim. Küçük çocuk, hayalindeki kuzu resmini görmüşçesine sevindi.

Bu parçanın yazarı, kutu resmi çizerken ne düşünmüştür?

- A) Hayalindeki kuzuyu bunun içerisinde bulabilir.
B) Kuzu resmi yapmayı çok sevdiğimi şimdi anlayacak.
C) Küçük çocuğun hayal ettiği kuzu resmini çizebilirim.
D) Ona birkaç kuzu resmi daha göstermeliyim.

16.



Beyin	Sağlık	Elektrik	Nem	KASTAMONU
Hüzün	Ümit	Korku	Sevinç	HATAY
Ateş	Yıldırım	İrmak	Buhar	ÇANAKKALE
Hava	Bulut	Güneş	Ses	AĞRI

Keloğlan, soyut anlamlı kelimelerin olduğu yoldan gittiğinde hangi şehre ulaşır?


- A) Kastamonu B) Hatay
C) Çanakkale D) Ağrı

17. “Yedi Kiremit Oyunu” şöyle oynanır: Ortaya yedi kiremit konur, iki gruba bölünen çocuklar kiremitleri top atarak yıkmaya çalışırlar. Kiremitleri ilk deviren grup, diğerini topla vurma hakkını elde eder. Topla en çok kişiyi vuran grup, oyunu kazanır.

Bu parçada “Yedi Kiremit Oyunu”yla ilgili olarak aşağıdakilerden hangisine değinilmemiştir?

- A) Kaç kiremit kullanıldığına
B) Nasıl kazanılacağına
C) Oyuncu sayısına
D) İki grupla oynandığına


18.



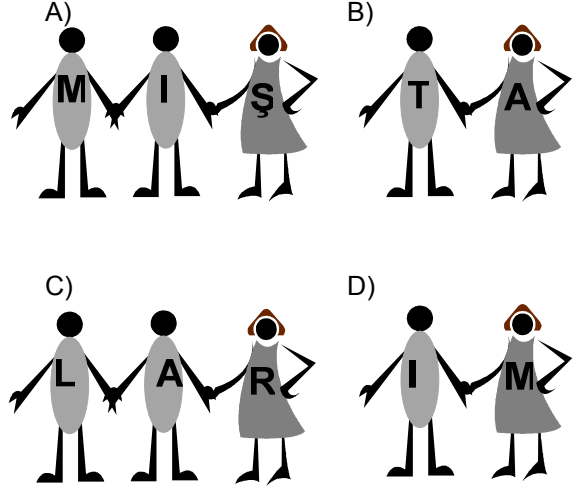
“F” torbasına fiil köklü kelimelerin, “İ” torbasına da isim köklü kelimelerin toplanması gerekmektedir. Buna göre aşağıdakilerden hangisi “İ” torbasına konur?

- A) Yazar B) Evli C) Örgü D) Sayı

19.



“AĞAÇ” kelimesini oluşturmuş çocuklarla, aşağıdaki çocuklardan hangileri el ele tutuşursa “Ç” tişörtlü çocuk ile “C” tişörtlü çocuğun yer değiştirmesi gerekir?



TÜRKÇE TESTİ BİTTİ.
MATEMATİK TESTİNE GEÇİNİZ.

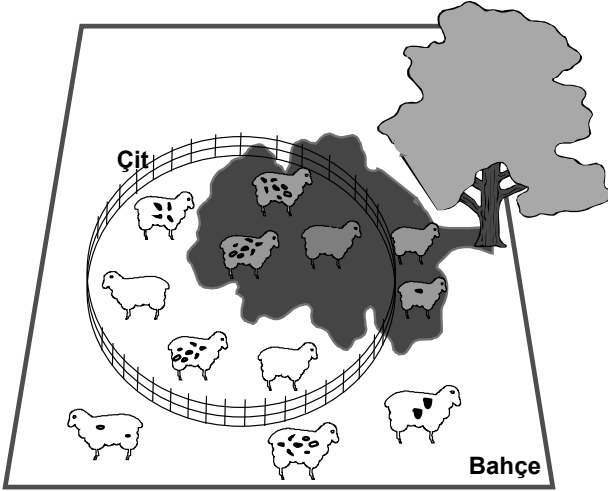
1. Aşağıdaki tabloda Elazığ ilinin dört günlük hava sıcaklık değerleri verilmiştir. Tabloya göre, gece ve gündüz sıcaklıkları farkı hangi gün en fazladır?

Tablo: Elazığ'ın Dört Günlük Hava Sıcaklık Değerleri (°C)

Günler \ Zaman	Pazartesi	Salı	Çarşamba	Perşembe
Gece	-9	-5	+1	-2
Gündüz	-4	+3	+8	+4

- A) Pazartesi B) Salı
C) Çarşamba D) Perşembe

2.



Şekildeki bahçede; çit içindeki koyunlar kümesi A, ağacın gölgesindeki koyunlar kümesi B dir. Aşağıdaki kümelerin hangisinin eleman sayısı 4 tür?

- A) $A \setminus B$ B) $A \cap B$ C) $B \cap A'$ D) $A \cup B'$

3. Bir öğretmen ile 20 öğrencisi Topkapı Sarayı'nı gezmeye gidiyor. Sarayın giriş ücreti yandaki tabelada verilmiştir. Aşağıdaki işlemler-

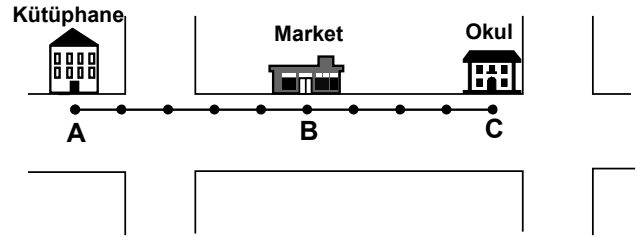
GİRİŞ ÜCRETİ

Öğretmen : 4 YTL
Öğrenci : 2 YTL

den hangisi öğretmen ve öğrencilerin ödeyeceği toplam para miktarını ifade eder?

- A) $4 + (2 \times 20)$ B) $20 \times (2 + 4)$
C) $4 \times (2 + 20)$ D) $(4 \times 2) + 20$

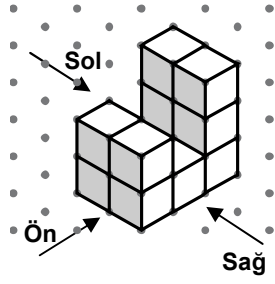
4.

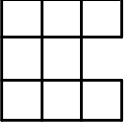
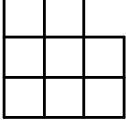
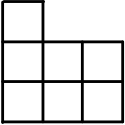
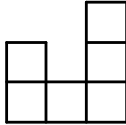


Kroki üzerinde çizilen doğru parçasında ardışık noktalar arasındaki uzaklıklar eşittir. Kütüphane, market ve okul sırasıyla A, B ve C noktalarında bulunmaktadır. Kütüphanenin markete uzaklığı 1,5 km olduğuna göre, market ile okul arası kaç kilometredir?

- A) 0,9 B) 1 C) 1,2 D) 1,4

5. Birim küplerden oluşan yandaki yapının sağdan görünümünü aşağıdakilerden hangisidir?



- A) 
- B) 
- C) 
- D) 

- 6.



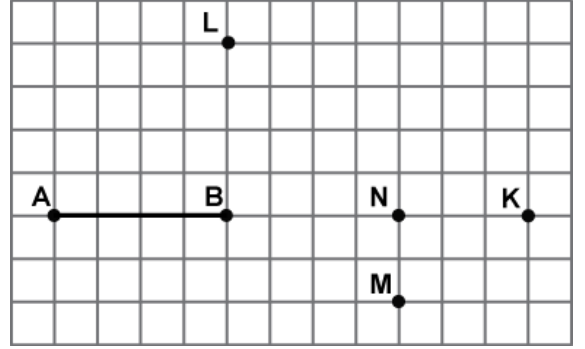
Kesir takımındaki $\frac{1}{3}$ 'lük çubuklardan iki tanesinin uç uca getirilmesiyle şekildeki büyüklük elde edilmiştir. Aynı büyüklük, kaç tane $\frac{1}{6}$ 'lük çubuğun uç uca getirilmesiyle elde edilir?

- A) 2 B) 4 C) 6 D) 9

7. Bir yarış pistini süratleri sabit iki araçtan biri 4 dakikada, diğeri 6 dakikada turluyor. Başlangıç çizgisinden aynı anda ve aynı yönde yarışa başlayan bu araçlar, ilk defa kaç dakika sonra yan yana gelirler?

- A) 8 B) 12 C) 20 D) 24

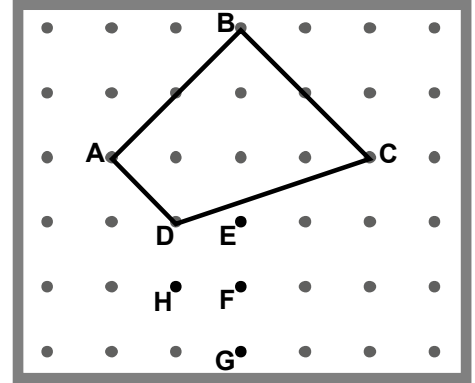
- 8.



Şekildeki AB doğru parçasına eş bir doğru parçası çizilecektir. Bu doğru parçasının uç noktalarından biri N noktası ise diğeri aşağıdakilerden hangisi olmalıdır?

- A) B B) K C) L D) M

- 9.



Şekildeki geometri tahtasında bazı çivilerin bulunduğu noktalar harflerle adlandırılmıştır. Bu geometri tahtasına yerleştirilen şekildeki lastik, takılı olduğu D noktasındaki çividen çıkarılarak hangi noktadaki çiviye takılırsa elde edilen şekil bir düzgün çokgen olur?

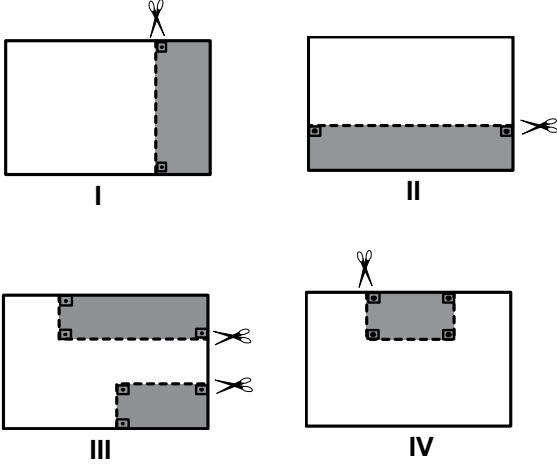
- A) E B) F C) G D) H

6. SINIF

MATEMATİK TESTİ

A

10.



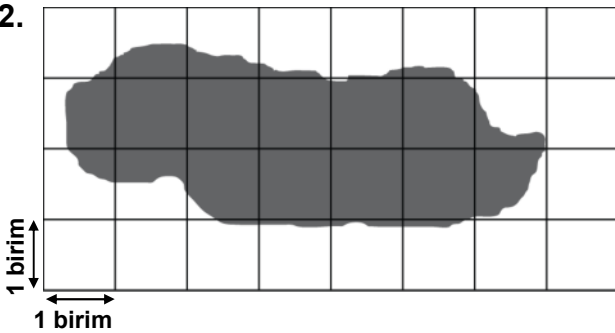
Eş dosya kâğıtları yukarıdaki gibi kesilerek boyalı parçalar atılıyor. Kalan parçanın çevre uzunluğu hangisinde en büyüktür?

- A) I B) II C) III D) IV

11. Haftada 900 litre su tüketen Semra, dişlerini günde 3 defa fırçalıyor. Dişlerini fırçalarken musluğu açık bıraktığı için her seferinde 15 litre suyu boşa akıtıyor. Semra diş fırçalarken musluğu açık bırakmazsa 1 haftada tükettiği su miktarı yüzde kaç azalır?

- A) 45 B) 40 C) 35 D) 30

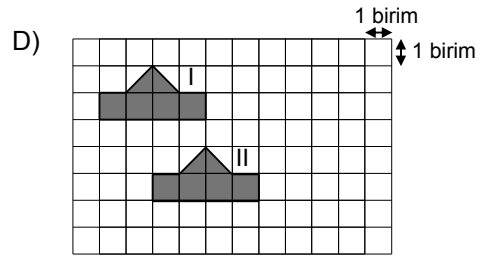
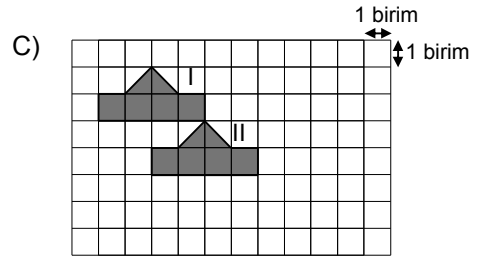
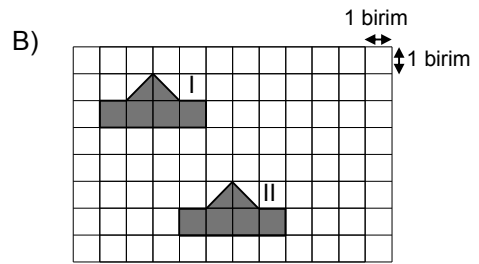
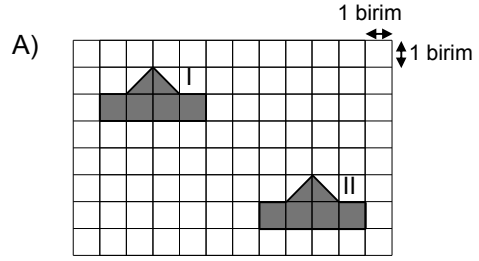
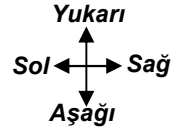
12.



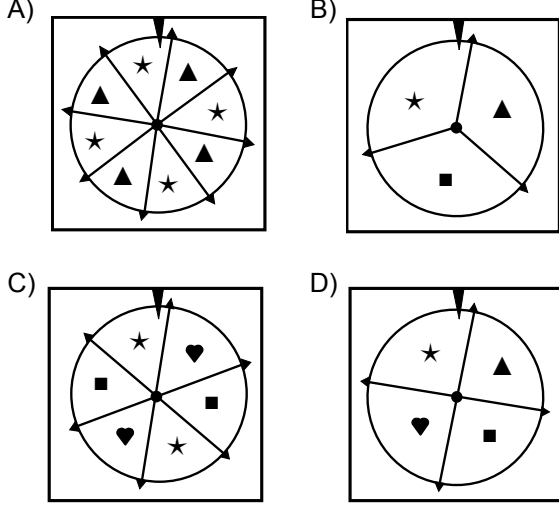
İznik Gölü'nün haritası yukarıda verilmiştir. Haritadaki 1 birim uzunluk 5 km'ye karşılık gelmektedir. Aşağıdakilerden hangisi bu gölün alanının kaç kilometre kare olduğunun en yakın tahminidir?

- A) 500 B) 400 C) 300 D) 200

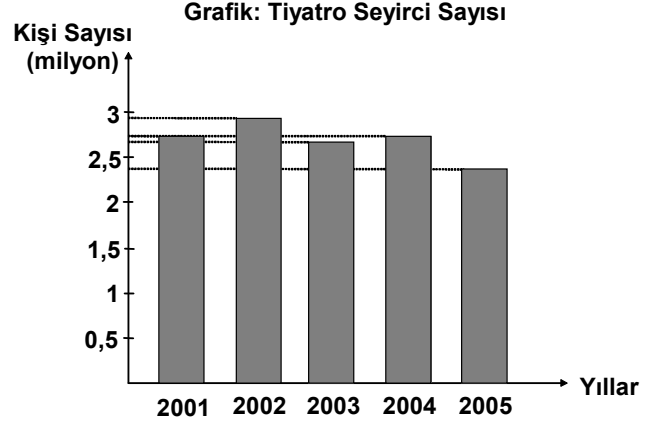
13. Aşağıdakilerin hangisinde II. şekil, I. şeklin 2 birim sağa, 3 birim aşağıya ötelenmesiyle elde edilmiştir?



14. Her biri eş dilimlere ayrılmış aşağıdaki çarklar döndürülüyor. Bu çarklar durduğunda ibrenin ★ olan dilimi gösterme olasılığı hangisinde en fazladır?



15. Türkiye İstatistik Kurumu verilerine göre ülkemizde 2001 – 2005 yılları arasındaki tiyatro seyirci sayıları aşağıdaki grafikte gösterilmektedir. Grafığe göre, aşağıdaki ifadelerden hangisi yanlıştır?



- A) 2004 yılındaki seyirci sayısı bir önceki yıla göre artmıştır.
- B) 2002 yılındaki seyirci sayısı 2,5 milyondan fazladır.
- C) Seyirci sayısının en fazla olduğu yıl 2002'dir.
- D) 2003 yılındaki seyirci sayısı 2,5 milyondan azdır.

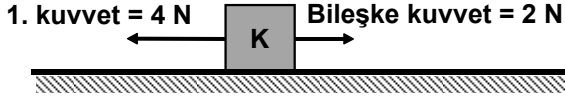
16. Dengede olan bir terazinin bir kefesinde her biri 4 kg olan küp şeklinde iki cisim, diğer kefesinde ise her biri 3 kg olan küre şeklinde iki cisim ile piramit şeklinde bir cisim vardır. Buna göre, piramit şeklindeki cisim kaç kilogramdır?

- A) 4 B) 3 C) 2 D) 1

MATEMATİK TESTİ BİTTİ.
FEN ve TEKNOLOJİ TESTİNE GEÇİNİZ.

1. Sürtünmesiz yatay düzlemdeki K cismine aynı doğrultuda iki kuvvet uygulanıyor. Bu kuvvetlerden biri ve bileşke kuvvet şekildedir.


Batı ← ● → Doğu



Buna göre uygulanan ikinci kuvvetin yönü ve büyüklüğü hangi seçenekte doğru olarak verilmiştir?

Yönü	Büyüklüğü (N)
A) Batı	2
B) Batı	6
C) Doğu	2
D) Doğu	6

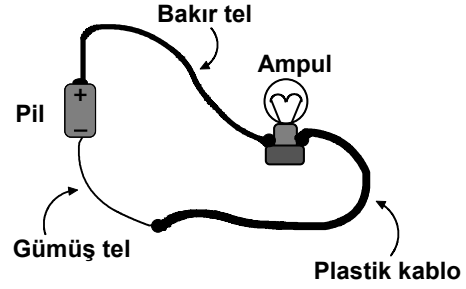
2.



Emel, şekildedeki 75 m'lik yolu izleyerek 15 saniyede K noktasından L noktasına sabit süratle geliyor. Buna göre Emel'in sürati kaç m/s'dir?

- A) 3 B) 5 C) 8 D) 10

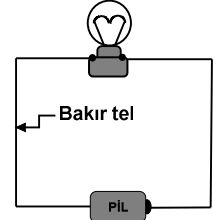
3.



Yukarıdaki devrede ampulün ışık vermesi için aşağıdakilerden hangisi yapılmalıdır?

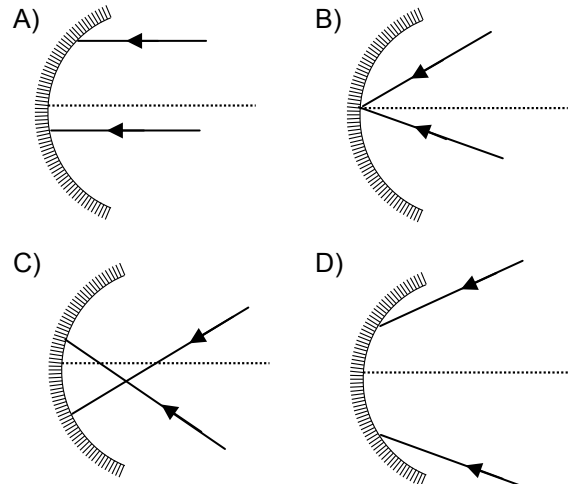
- A) Gümüş tel yerine bakır tel kullanılmalı.
 B) Bakır tel yerine plastik kablo kullanılmalı.
 C) Plastik kablo yerine gümüş tel kullanılmalı.
 D) Gümüş tel devreden çıkarılmalı.

4. Ali, şekildedeki elektrik devresinde ampulün parlaklığını artırmak istiyor. Bunu gerçekleştirebilmek için aşağıdakilerden hangisini yapmalıdır?

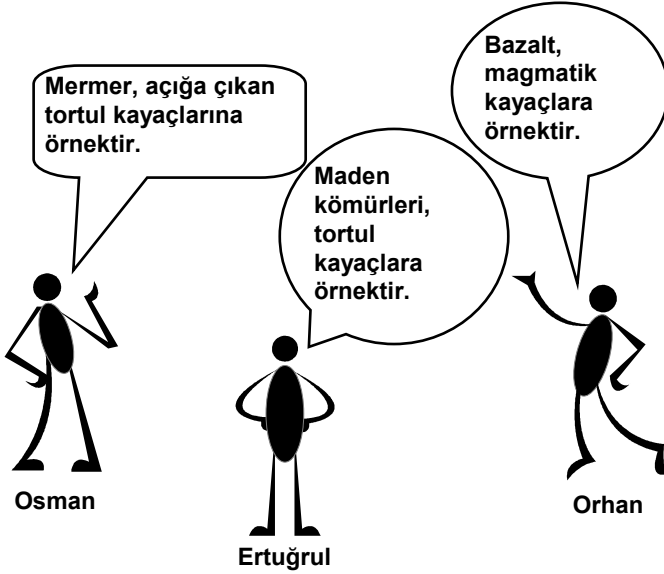


- A) Ampulü pilin hemen yanına bağlamalıdır.
 B) Bakır tel yerine aynı uzunluk ve kalınlıkta gümüş tel kullanılmalıdır.
 C) Uzunluğu aynı, daha ince bakır tel kullanılmalıdır.
 D) Kalınlığı aynı, daha uzun bakır tel kullanılmalıdır.

5. Arda, bir çukur aynanın odak noktasını bulmak istiyor. Bunun için çukur aynaya iki ışık ışını gönderiyor. Bu ışınları aşağıdakilerden hangisindeki gibi gönderirse amacına ulaşabilir?



6. Osman, Ertuğrul ve Orhan kayalara aşağıdaki örnekleri veriyor. Hangilerinin verdiği örnekler doğrudur?



- A) Yalnız Orhan
B) Osman ve Orhan
C) Orhan ve Ertuğrul
D) Osman, Orhan ve Ertuğrul


7. "Maddeleri oluşturan tanecikler arasında boşluk vardır." bilgisine ulaşmak isteyen öğrencilerden Ayşe, Can ve Gül aşağıdaki etkinlikleri yapıyor.

- Ayşe, şekeri suda çözüyor.
- Can, kâğıdı yakıyor.
- Gül, şiringadaki havayı sıkıştırıyor.

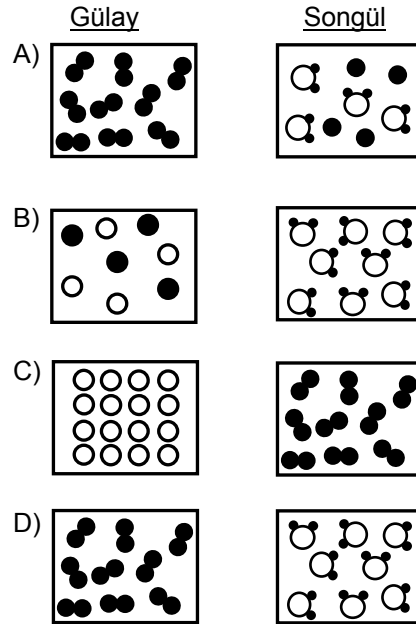
Hangi öğrencinin ya da öğrencilerin yaptığı etkinlik sonucunda bu bilgiye ulaşılabilir?

- A) Can
B) Ayşe ve Can
C) Ayşe ve Gül
D) Can ve Gül

8.



Gülay ve Songül'ün tanecik modelleri aşağıdakilerden hangisi olabilir?



9.



Gamze


Elif

Mert

Gamze, Elif ve Mert'in yaptığı işler sonunda maddelerde meydana gelen değişimler aşağıdakilerden hangisinde doğru verilmiştir?

- | <u>Gamze'nin</u> | <u>Elif'in</u> | <u>Mert'in</u> |
|------------------|----------------|----------------|
| A) Kimyasal | Kimyasal | Fiziksel |
| B) Fiziksel | Fiziksel | Kimyasal |
| C) Fiziksel | Kimyasal | Fiziksel |
| D) Kimyasal | Kimyasal | Kimyasal |

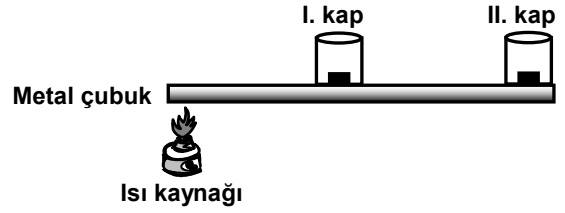
10. K, L, M aynı maddenin üç hâline ait tanecik modellerini temsil etmektedir.



Buna göre aşağıdakilerden hangisi söylenebilir?

- A) Madde M'deki hâlimden L'deki hâline geçerken ısı verir.
 B) M, maddenin gaz hâlini temsil eder.
 C) Madde K'daki hâlimden L'deki hâline geçerken ısı alır.
 D) M'deki tanecikler kolaylıkla sıkıştırılabilir.





11.



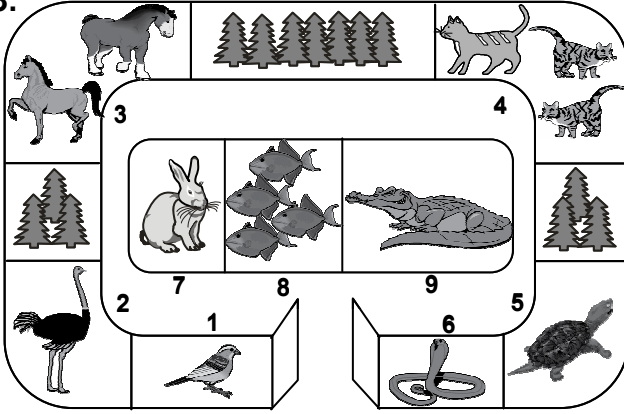
İçinde eşit miktarda aynı katı yağ bulunan özdeş kaplar şekildeki gibi metal çubuk üzerine yerleştiriliyor. Metal çubuk bir ucundan ısıtılmaya başlandığında önce I. kaptaki, sonra II. kaptaki yağ eriyor. Bu deney aşağıdakilerden hangisini ispatlamak için yapılmıştır?

- A) Erime süresinin madde miktarına bağlı olduğunu
 B) Katı maddelerde ısının iletim yoluyla yayıldığını
 C) Farklı maddelerin ısıyı farklı hızlarda iletmesini
 D) Kaplardan hangisinin ısıyı daha iyi iletmesini

12. Öğretmen Müge'den, kendi görevlerini anlatan aşağıdaki hücre organellerini hayvan hücresi şeklinin içine çizmesini istiyor. Müge hangi organeli çizerse hata yapmış olur?

- A)  : Fotosentezle besin üretirim.
 B)  : Hücre içi sindirimi yaparım.
 C)  : Hücre için önemliyim, bulunduğum hücreye enerji üretirim.
 D)  : Küçük bir organelim ancak hücrede protein sentezi yaparım.

13.



Şekildeki gibi bir hayvanat bahçesine gezi yapan öğrenciler, sadece "yavrusunu sütle besleyen hayvanlar"ı görmek istiyor.

Buna göre öğrenciler kaç numaralı bölümleri ziyaret etmelidir?

- A) 2, 7, 9 B) 3, 4, 7
C) 1, 5, 6, 8 D) 2, 4, 5, 9

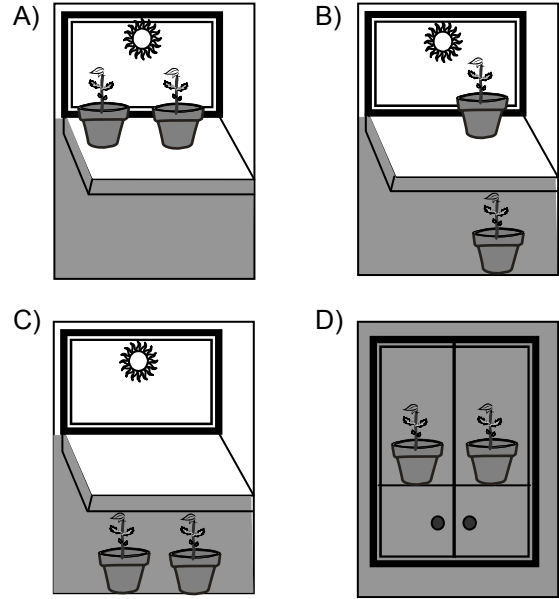
14.



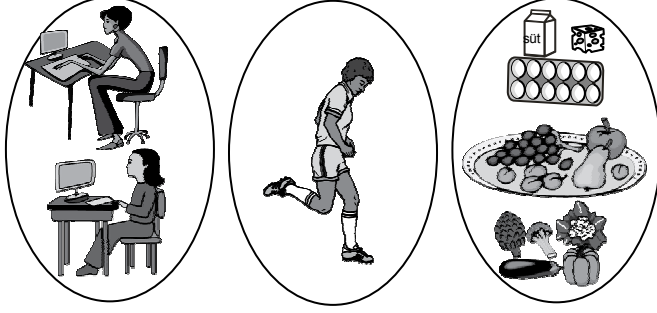
Mehmet ile dedesi birbirinin aynı olan fasulye fidelerini bahçedeki boşluklara ekip, eşit miktarda su veriyorlar.

Bir süre sonra, şekildeki gibi ağaç gölgesinde kalan fidelerin diğerlerine göre daha az büyüdüğünü görüyorlar.

Bu durumu sınıftaki arkadaşlarına deneyle göstermek isteyen Mehmet, fasulye fideleriyle aşağıdaki düzeneklerin hangisini hazırlamalıdır?



15.



Bir öğrenci sınıfta anlatacağı konu için yukarıdaki üç resmi hazırlamıştır.

Bu öğrencinin anlatacağı konu aşağıdakilerden hangisidir?

- A) Yaşımıza uygun sporlar
- B) Vitamin değeri yüksek olan bitkisel besinler
- C) Destek ve hareket sisteminin sağlığı
- D) Dolaşım sisteminde görülen hastalıklar

16.

Mikrop kaptdığın için kanında akyuvar sayısı 16.000'e çıkmış. Sağlıklı bir insanın 1 mm^3 kanındaki akyuvar sayısı genellikle 10.000'den fazla olmaz.

Yazdığım ilaçları kullandıktan sonra yine kan tahlili yaptırıp sonucu getir.

Doktor



Emel

Adı Soyadı:
Emel Kaya
Akyuvar Sayısı:
16.000

İlaç kullanmadan
önceki kan tahlili

Adı Soyadı:
Emel Kaya
Akyuvar Sayısı:
8.000

İlaç kullandıktan
sonraki kan tahlili

İlaçları kullandıktan sonraki kan tahlili sonucunda da görüldüğü gibi akyuvar sayısı 8.000'e inen Emel'e doktor ne söylemiştir?

- A) Hastalığın devam ediyor.
- B) Bu ilaçları sürekli kullanmalısın.
- C) Başka ilaçlar kullanmalısın.
- D) İlaçlar etkili olmuş, iyileşmişsin.

FEN ve TEKNOLOJİ TESTİ BİTTİ.
SOSYAL BİLGİLER TESTİNE GEÇİNİZ.

1. Atatürk'ün;

- Türk Tarih Kurumunu açması,
- Arkeolojik kazıları başlatması

gibi uygulamaları, aşağıdaki bilim dallarından hangisini geliştirmeye yöneliktir?

- A) Dinî bilimleri B) Fen bilimlerini
C) Matematiği D) Sosyal bilimleri

2.

Bütün sultan ve emirlerin bu kitabın içindekileri bilmekten başka çaresi yoktur. Dikkatlice okuyup anladıklarında dost ve düşmanın durumunu daha iyi fark edecekler, doğru tedbir almaları daha da kolaylaşacaktır. Çünkü burada verilen bilgiler sayesinde dergâh, bargâh, divan, meydan, meclis, mal ve vergi işlerini, halk ve ordunun durumunu anlayacaklardır...



Nizamülmülk

Nizamülmülk'ün "Siyasetname" adlı eserinden bir bölüm okudunuz.

Buna göre Siyasetname'nin konusu, aşağıdakilerden hangisi olabilir?

- A) Devlet yönetimi B) Sanatı geliştirme
C) Kültürel gelişme D) Bayındırlık

3.



Ülkemin bilgileri Ay ve Güneş tutulmasını, Ay yılı takvimini hesapladı. Güneş sistemindeki beş gezegeni ve burçları buldu. Ziggurat adını verdiğimiz tapınaklar aynı zamanda birer gözlem eviydi.

Sümerli çocuğun bu anlatımına göre, Sümerlilerin dünya uygarlığına katkısı hangi alanda olmuştur?

- A) Matematik B) Astronomi
C) Tarih D) Tıp

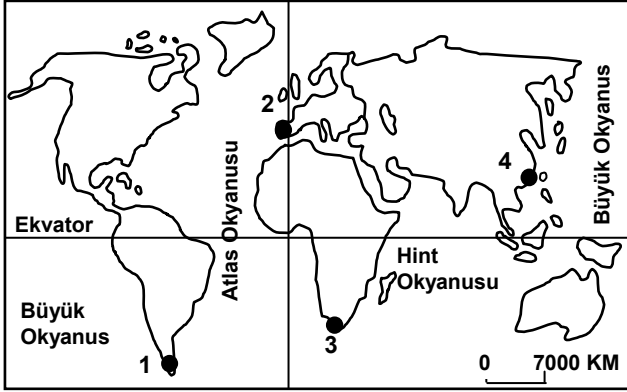
4.

Frigler	→	Başkentleri, Polatlı yakınlarındaki Gordion'dur.
Sümerler	→	Yazıyı icat ettiler.
.....?.....	→	Parayı ilk defa onlar kullandılar.
Hititler	→	Tarihte ilk yazılı antlaşmayı imzaladılar.

Verilen eşleştirme tablosundaki boş yer, aşağıdakilerden hangisiyle tamamlanmalıdır?

- A) İyonlar B) Asurlular
C) Lidyalılar D) Urartular

5.



Merhaba ben Zelda,
Ekvator'un kuzeyinde Büyük Okyanus'un kıyısında küçük bir sahil şehrinde yaşıyorum. Yaşadığım yer haritada kaç numaralı nokta ile gösterilmiştir?



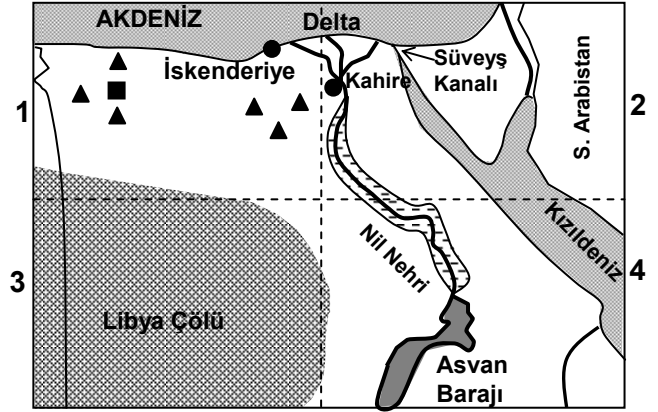
- A) 1 B) 2 C) 3 D) 4

6. Öğretmeni Ayşe'ye, Türkiye'nin yer şekilleri ile ilgili araştırma ödevi verip, belirlediği dağ ve akarsu isimlerini listelemesini istemiştir. Ancak öğretmeni 1:500.000 ölçeğindeki Türkiye fiziki haritasından yararlanan Ayşe'nin listesindeki isim sayısını az bulmuştur.

Buna göre, Ayşe'nin ödevine daha fazla dağ ve akarsu ismi yazabilmesi için aşağıdaki hangi ölçeğe sahip Türkiye fiziki haritasına bakması gerekir?

- A) 1: 100.000 B) 1: 600.000
C) 1: 800.000 D) 1: 10.000.000

7.



----- Bölge sınırları

▲ ■ Petrol ve Doğalgaz

▨ Tarım alanı

Yukarıda, Mısır ülkesinin haritası 4 bölgeye ayrılarak gösterilmiştir.

Nüfusu en az olan bölge ve bunun nedeni aşağıdakilerin hangisinde doğru verilmiştir?

- A) 1 numaralı bölgedir, çünkü zengin petrol ve doğalgaz üretim alanıdır.
B) 2 numaralı bölgedir, çünkü Nil Nehri'nin verimli deltası ve Süveyş Kanalı buradadır.
C) 3 numaralı bölgedir, çünkü büyük bir çölle kaplıdır.
D) 4 numaralı bölgedir, çünkü Nil Nehri ve Asvan barajının suladığı tarım alanları bulunmaktadır.

8. Babamın anlattıklarına hâlâ inanamıyorum. Bugün yaşadığımız şehir, 30 yıl önce balıkçılık ve hayvancılıkla geçinen, kendi ihtiyaçlarına yönelik sebze ve meyve yetiştiren küçük bir sahil kasabasıymış. Etrafı dağlık olduğu için yolu da yokmuş elektriği de. Çevresindeki dağlarda bakır yataklarının bulunmasıyla kaderi değişmiş! Bakırı işleyen tesisler, modern yollar yapılmış. Başka yerlerden de kasabaya çok sayıda insan yerleşmiş. Ticaret hayatı canlanmış. Eskiden 2.000 kişiyi aşmayan nüfusu bugün 200.000 kişiye yükselmiş.


Metne göre kasabanın gelişmesini sağlayan temel unsur aşağıdakilerden hangisidir?

- A) Bakır madeninin bulunması
B) Modern yolların yapılması
C) Kasabanın göç alması
D) Ticaret hayatının gelişmesi
9. 2007 yılının Ağustos ayında, Yunanistan'ın çeşitli yerlerinde, birbirine yakın zamanlarda büyük orman yangınları çıkmıştı. Yunanistan tarafından büyük mücadeleler yapılmasına rağmen, araç ve personel yetmediği için günlerce söndürülemeyen orman yangınları, pek çok insanın ölümüne ve evsiz kalmasına sebep olmuştu. Doğal dengeyi bozan yangınlar çevre ülkeleri de tehdit etmişti.


Böyle bir durumda, komşu ülkelerin yapması gereken aşağıdakilerden hangisidir?

- A) Yangınların çıkış sebebini araştırmak.
B) O ülkeyle olan ticareti kesmek.
C) Araç, gereç ve personel yardımında bulunmak.
D) Yangınları, o ülkenin kendi imkânlarıyla söndürmesini beklemek.

10.



I. Şekil (1995)



II. Şekil (2008)

I. şekilde gösterilen yamaç, gür ve sık ağaçlarla kaplı iken yoğun ağaç kesimi sonucu yapılan tahribatla II. şekildeki duruma gelmiştir.

Bu değişimle beraber resimdeki köy, aşağıda verilen doğal afetlerden hangisinin tehlikesi altına girmiştir?

- A) Yangınların
B) Depremin
C) Volkanik patlamanın
D) Sel ve heyelanın

11.



Yukarıdaki şemada soru işareti olan kutuya aşağıdakilerden hangisi yazılamaz?

- A) Bütün mesleklerde başarılı olur.
 B) Ülke ekonomisinin gelişmesine katkı sağlar.
 C) Çalışma verimliliği artar.
 D) Kendine güven duyar.

12. Aşağıdaki öğrenciler farklı yönetim biçimlerini anlatmaktadırlar.

Devleti kral, hükümdar gibi unvanlar verilen tek bir kişi yönetir. Kral verdiği kararlar nedeniyle sorgulanamaz.

Devlet yöneticileri, belli bir süre için halkın oylarıyla seçilir ve halk adına ülkeyi idare eder. Yöneticilerin uygulamaları eleştirilebilir.

Burak

Elif

Yöneticiler, devleti dinî kurallara dayanarak yönetir ve bu yönetim biçimi asla eleştiri kabul etmez.

Devlet yöneticileri, bir grup azınlık tarafından seçilerek göreve getirilir. Yöneticiler halka değil, azınlık gruba karşı sorumludur.

Ahmet

Damla

Hangi öğrencinin anlattığı yönetim biçimi demokrasinin temel ilkelerine uygundur?

- A) Burak B) Elif C) Ahmet D) Damla

13. Aşağıdaki kişilerden hangisinin davranışı, karşılaştığı bir sorunu hak ve sorumlulukları doğrultusunda çözdüğüne örnek olmaz?

- A) Maddi durumu iyi olmayan Mert'in, istediği eğitimi alabilmek için yardım derneklerine başvurması
 B) Aldığı bilgisayar bozuk çıkan Ayşe Hanım'ın, bozuk bilgisayar sattığını kabul etmeyen mağaza sahibini yetkili birimlere dilekçeyle şikâyet etmesi
 C) Marketten yeni satın aldığı bir ürünün tüketim tarihinin geçmiş olduğunu fark eden Murat Bey'in, o ürünü çöpe atması
 D) Ses sanatçısı Gülay'ın, çıkardığı albümün korsan satışını yapanları mahkemeye vermesi

DİN KÜLTÜRÜ ve AHLAK BİLGİSİ DERSİNİ OKUYANLAR AŞAĞIDAKİ SORULARI CEVAPLAYACAKLAR. OKUMAYANLAR BUNUN YERİNE, AYNI NUMARALI SOSYAL BİLGİLER SORULARINI CEVAPLAYACAKLAR.


14.



Karatay Medresesi



İbni Sina



Süleymaniye Külliyesi



Köprülü Kütüphanesi



Katip Çelebi'nin Cihannüma'sı

Göksel, ödevi için yukarıdaki resimleri kullanarak bir afiş hazırladı. Şimdi de bu resimlerin tümünü kapsayan bir değerlendirme yazısı yazmak istiyor. Ona aşağıdakilerden hangisini yazmasını önerirsiniz?

- A) Türkler en çok cami mimarisine önem vermiştir.
- B) Türkler Kur'an'ın açıklamasını konu alan önemli kitaplar yazmışlardır.
- C) Türkler ilim ve medeniyet alanında önemli katkılarda bulunmuşlardır.
- D) Türkler arasından önemli ressamlar çıkmıştır.

15. Zehra ve Gülçin peygamberler hakkında babaları ile konuşuyorlardı. Babaları:

— Peygamberlerin ortak özellikleri nelerdir? diye sordu.

Zehra, peygamberlerin üç ortak özelliğini sıraladı. Gülçin de bunlara bir madde daha ilave etti. Beşinci özelliği de hatırlamalarını sağlamak için babaları onlara şöyle sordu:

— Peygamberler, insanların düşünmeleri, doğruyu kavramaları ve iyiliğe yönelmeleri için çalışırlar. Peki, sağlıklı bir zihin ve zekâya sahip olmayan biri, peygamberlik görevini yapabilir mi?

Babaları bu soruyla peygamberlerin hangi özelliğine ilişkin bir ipucu vermiş olabilir?

- A) Güvenilir olmak
- B) Akıllı ve zeki olmak
- C) Doğruluk
- D) Allah'tan aldığı mesajları aynen insanlara iletmek

16.



Yukarıdaki kavram haritasında anlatılan kötü davranış aşağıdakilerden hangisidir?

- A) Kötü zanda bulunmak
- B) Hile yapmak
- C) Gıybet
- D) İftira

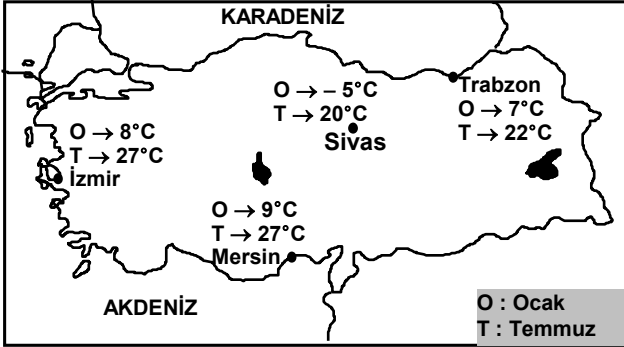
DİN KÜLTÜRÜ ve AHLAK BİLGİSİ DERSİNİ OKUMAYANLAR, AŞAĞIDAKİ SOSYAL BİLGİLER SORULARINI CEVAPLAYACAKLAR. DİN KÜLTÜRÜ ve AHLAK BİLGİSİ DERSİNİ OKUYANLAR CEVAPLAMAYACAKLAR.

14. Uygurlardan günümüze mal edinme, satış protokolü, ipotek senedi, ortaklık kurma, evlatlık verme, iş sözleşmesi, vasiyetname, vakıfname gibi hukuki konuları kapsayan belgeler kalmıştır.

Buna göre Uygurlarla ilgili olarak aşağıdaki-lerden hangisi söylenemez?

- A) Ekonomik yaşam yasalarla düzenlenmiştir.
B) Zamanlarına göre çok ileri ve uygar bir toplumdurlar.
C) Çin'den ipek ve tarım ürünleri almış, canlı hayvan ihraç etmişlerdir.
D) Yönetim anlayışlarında hukuki düzenlemelerin önemli bir yeri vardır.

15.



Karasal iklimin özelliklerinden biri de yaz ve kış mevsimleri arasındaki sıcaklık farkının yüksek olmasıdır.

Buna göre, haritada gösterilen şehirlerden hangisi karasal iklimin etkisi altındadır?

- A) İzmir
B) Sivas
C) Mersin
D) Trabzon

16. “Bir araştırmaya başlamadan önce neyin araştırılacağından emin olunmalıdır. Araştırılacak problemin sınırları belirlenmelidir.”

Yukarıda, bilimsel araştırma basamaklarından öncelikle hangisine yönelik bir açıklama yapılmaktadır?


- A) Konuyla ilgili kaynakların incelenmesi
B) Problemin çözümüne yönelik varsayımların oluşturulması
C) Araştırma metninin oluşturulması
D) Araştırma konusunun belirlenmesi

**SOSYAL BİLGİLER TESTİ BİTTİ.
YABANCI DİL TESTİNE GEÇİNİZ.**

BU GRUPTAKİ SORULAR YABANCI DİLLERE AİTTİR. OKUDUĞUNUZ YABANCI DİLE AİT SORULARI CEVAPLANDIRINIZ.

İNGİLİZCE

1.



Resme göre öğretmen aşağıdakilerden hangisini söylemiş olabilir?

- A) come in B) go out
C) get up D) be careful

2.



Konuşma balonunda verilen ifadeye uygun gelen resmi işaretleyiniz.

A)



B)



C)



D)



3. Verilen trafik bilgi işaretini ifade eden seçeneği işaretleyiniz.




- A) You mustn't swim here.
B) You mustn't park here.
C) You mustn't turn right.
D) You mustn't stop here.

4.



Zübeyde Hanım



Ali Rıza Efendi



Atatürk



Makbule Hanım


Soyağacını dikkate alarak boş bırakılan yere uygun olan seçeneği işaretleyiniz.

A: Who is Zübeyde Hanım?

B: She's Atatürk's

- A) daughter B) aunt
C) sister D) mother

5.



Gömleği satın almak isteyen bayan aşağıdaki-
lerden hangisini sormuştur?

- A) Whose shirt is it? B) Where is it?
C) How much is it? D) What colour is it?

6.



Meltem



Aylin



Beyza



Gizem

“She’s drinking tea and listening to music.”
Verilen cümlede kim anlatılmaktadır?

- A) Beyza B) Aylin C) Meltem D) Gizem

7. Tabloyu dikkate alarak boş bırakılan yere uygun gelen seçeneği işaretleyiniz.

Tom				

Tom doesn't like

- A) coffee B) ice – cream
C) hamburger D) fish

8. Muş:



Kütahya:



Burdur:




Verilen resme göre aşağıdaki sorunun cevabını
içeren seçeneği işaretleyiniz.

What's the weather like in Burdur?

- A) It's sunny. B) It's rainy.
C) It's windy. D) It's snowy.

9. Konuşma balonunda boş bırakılan yere uygun
olabilecek soru aşağıdakilerden hangisidir?



- A) How old are you?
B) What's your name?
C) Where are you from?
D) How are you today?

10. Resmi dikkate alarak konuşma balonuna uygun gelebilecek ifadeyi işaretleyiniz.



- A) I can't hear. B) I can't see.
C) I can't speak. D) I can't think.


11., 12., 13. sorularda, resimleri dikkate alarak boş bırakılan yerlere uygun olan ifadenin bulunduğu seçeneği işaretleyiniz.

11. There are birds in the tree.



- A) three B) four C) two D) ten

12. There's a rabbit the table.



- A) behind B) near C) under D) on

13. Ali's father is a



- A) doctor B) pilot
C) baker D) policeman

ALMANCA

1. – 10. karşılıklı konuşma sorularında verilen cümlede boş bırakılan yerlere uygun düşen sözcük veya ifadeyi bulunuz.

1. Peter : Wie geht es Ihnen?

Monika: Danke,

- A) es geht mir gut. B) es geht uns gut.
C) es geht ihm gut. D) es geht ihr gut.

2. Hans : Wer bist du?

Metin : Ich Metin.

- A) sind B) ist C) bin D) bist

3. Hans : Wie heisst du?

Peter : Ich Peter.

- A) heisse B) heissen
C) heisst D) bist

4. Hans : alt bist du?

Peter : Ich bin 15 Jahre alt.

- A) Woher B) Was C) Wohin D) Wie

5. Metin : machst du Ayşe?

Ayşe : Ich Klavier.

- A) Woher / spielt B) Wie / spielen
C) Was / spiele D) Wo / kann

6. Peter : Was ist das?

Fatma : Das



Das Glas

- A) ist einer Glas. B) ist eine Glas.
C) ist ein Glas. D) ist einen Glas.

7. Petra : Was ist das?

Fatma : Das ist Tasche.



- A) eine B) ein C) einen D) einem

8.



Ali : Wo hängt die Lampe?

Ayşe : Die Lampe hängt Tisch.

- A) unter den B) auf den
C) in der D) Über dem

9. Monika: Guten Morgen!

Hans : Guten Morgen!

Monika: Wer bist du?

Hans : Ich bin Hans.

Monika: Wie alt bist du?

Hans : Ich bin 18 Jahre

Monika: Vielen Dank!

Hans : Bitte sehr!

- A) schnell B) alt C) schön D) lerne

10. Klaus : Wie heisst du?

Petra : Ich heisse Petra

Klaus : Wo wohnst du?

Petra : Ich wohne in Köln.

Klaus : Was machst du dort?

Petra : Ich Türkisch.

Klaus : Vielen Dank!

- A) lernst B) lerne C) wollen D) musst

11. Was möchte Ali essen?

A) Suppe

B) Cola

C) Milch

D) Mineralwasser

12. – 13. sorularda verilen kelimelerden anlamlı bir cümle oluşturulduğunda sıralama nasıl olmalıdır?

12. Ich / gern / eine Cola / möchte / trinken

1 2 3 4 5

A) 2 / 1 / 3 / 4 / 5

B) 1 / 2 / 3 / 4 / 5

C) 1 / 4 / 2 / 3 / 5

D) 1 / 2 / 3 / 5 / 4

13. Wir / gehen / wollen / ins Kino / jetzt

1 2 3 4 5

A) 1 / 2 / 3 / 4 / 5

B) 1 / 3 / 5 / 4 / 2

C) 1 / 3 / 2 / 4 / 5

D) 2 / 3 / 1 / 4 / 5

FRANSIZCA

1. - 4. sorularda boş bırakılan yere uygun düşen sözcük ya da ifadeyi işaretleyiniz.

1. Pierre une sœur.

- A) a B) as C) ont D) ai

2. En Turquie, les taxis sont

- A) blanches B) rouges
C) jaunes D) noires

3. mes nièces, travaillent en France.

- A) Ce sont / elles B) Ce sont / c'est
C) C'est / elles D) Ce sont / ils

4. Marc : D'où est-ce que ses parents viennent?

Nicole : Ils viennent

- A) de la confiture B) de la viande
C) à la banque D) de la poste

5. Resme göre aşağıdakilerden hangisi söylenemez?



- A) Il porte une casquette.
B) Il a une moustache.
C) Il a une barbe.
D) Il porte des lunettes.

6.



Resme göre konuşma baloncuğunda boş bırakılan yere uygun düşen ifade aşağıdakilerden hangisidir?

- A) onze ans B) douze ans
C) sept ans D) quatorze ans

7. "Marie est vétérinaire" cümlesinin sorusu aşağıdakilerden hangisidir?


- A) Quelle est sa profession?
B) Quel est son âge?
C) Quelle est sa nationalité?
D) Quel est son prénom?

8. Aşağıdaki sorunun cevabını işaretleyiniz.

Quel est le troisième mois de l'année?

- A) Mardi B) Mai
C) Mercredi D) Mars

9. Verilen resme göre saat kaç göstermektedir?



- A) Il est huit heures B) Il est neuf heures
C) Il est sept heures D) Il est dix heures

10. Aşağıdaki işlemin sonucunun Fransızca karşılığı hangisinde doğru olarak verilmiştir?

$$19 - 4 = 15$$

- A) cinq B) quinze C) quatre D) quatorze

11.




Konuşma balonunda boş bırakılan yere uygun düşen seçeneği işaretleyiniz.

- A) française B) espagnol
C) français D) italien

12. Aşağıdaki kelimeler gruplandırıldığında hangisi bu grubun dışında kalır?

- A) Le printemps B) L'été
C) Le pays D) L'automne

13.



Yukarıda verilen meslekler hangi seçenekte doğru sıralamayla verilmiştir?


- | | | |
|---------------|---------------|---------------|
| _____ 1 _____ | _____ 2 _____ | _____ 3 _____ |
| A) avocat | musicien | dentiste |
| B) infirmière | musicien | dentiste |
| C) ouvrière | chanteur | dentiste |
| D) serveuse | dentiste | chanteur |

İTALYANCA

1. Aşağıdaki konuşmada boş bırakılan yerlere uygun gelen seçeneği işaretleyiniz.

A:, Lei come si chiama?

B: Anna Rossi.



- A) scusi / sono B) scusa / sono
C) piacere / sono D) prego / sono

2. Harflerle numaraları uygun bir şekilde birleştiriniz.

- | | |
|--------------------|----------------------------|
| a) Sei italiana? | 1) Sì, sono di Barcellona. |
| b) Di dove sei? | 2) No, sono svizzera. |
| c) Come ti chiami? | 3) Sono di Atene |
| d) Sei spagnolo? | 4) Mi chiamo Augusto |

- A) a/1, b/3, c/4, d/2 B) a/4, b/1, c/3, d/2
C) a/2, b/3, c/4, d/1 D) a/2, b/1, c/4, d/3

3. Aşağıdaki cümlede boş bırakılan yere uygun olan seçeneği işaretleyiniz.

(tu)..... presto a casa?

- A) torni B) tornate C) torno D) torna

4. Resmi dikkate alarak boşluğa uygun gelen ifadeyi işaretleyiniz.




Ho un cane piccol.... e ner

- A) o / a B) o / e C) a / o D) o / o

6. SINIF**YABANCI DİL TESTİ****A**

5. Resmi dikkate alarak boşluğa uygun gelen ifadeyi işaretleyiniz.



Chi è ragazza?

- A) questo B) questi C) questa D) queste

6. Aşağıdaki cümlede boş bırakılan yere uygun gelen seçeneği işaretleyiniz.

(tu) lezione il sabato?

- A) sei B) ho C) hai D) ha


7. Resmi dikkate alarak boşluğa uygun gelen ifadeyi işaretleyiniz.



..... sorella fa cantante.

- A) mia B) mie C) mio D) tuo

8. Aşağıdaki soruya uygun cevabı işaretleyiniz.



Quando finisce la scuola?

- A) in primavera B) in inverno
C) in autunno D) in estate

9. – 13. sorularda boş bırakılan yere uygun gelen ifadeyi işaretleyiniz.

9. Mangia; perché fa la dieta.

- A) abbastanza B) poco
C) troppo D) molto

10. Luca e Anna sono un bar centro.

- A) in / a B) in / in C) a / in D) in / da

11. Tornano a casa una.

- A) all' B) alle C) a D) al

12. A: Che farete stasera?

B: con gli amici.

- A) uscirà B) uscite
C) usciremo D) usciremmo

13. Nevica in

- A) estate B) inverno
C) primavera D) autunno

**TEST BİTTİ.
CEVAPLARINIZI KONTROL EDİNİZ.**

Soracağınız bir şey var mı? Varsa şimdi sorunuz; sınav başladıktan sonra sorularınıza cevap verilmeyecektir. Hazır mısınız?

Sınav, okulun bütün salonlarında aynı anda başlayacağı için başlama zilini beraberce bekleyelim.

Hepinize başarılar dileriz.

(Salon başkanı başlama ve bitiş saatini tahtaya yazacaktır.)

Bu soru kitapçığının her hakkı saklıdır. Hangi amaçla olursa olsun, testlerin tamamının veya bir kısmının Millî Eğitim Bakanlığı Eğitim Teknolojileri Genel Müdürlüğünün yazılı izni olmadan kopya edilmesi, fotoğraflarının çekilmesi, bilgisayar ortamına alınması, herhangi bir yolla çoğaltılması, yayımlanması veya başka bir amaçla kullanılması yasaktır. Bu yasağa uymayanlar, doğabilecek cezaî sorumluluğu ve kitapçığın hazırlanmasındaki malî külfeti peşinen kabullenmiş sayılır.